


کد کنترل

322

D



322D

ویژه نظام آموزشی قدیم

دفترچه شماره ۲
صبح پنجشنبه
۱۳۹۸/۴/۱۳



جمهوری اسلامی ایران
وزارت علوم، تحقیقات و فناوری
سازمان سنجش آموزش کشور

«اگر دانشگاه اصلاح شود مملکت اصلاح می‌شود.»
امام خمینی (ره)

آزمون سراسری ورودی دانشگاه‌های کشور - ۱۳۹۸

آزمون اختصاصی
گروه آزمایشی علوم انسانی

مدت پاسخ‌گویی: ۱۶۵ دقیقه

تعداد سؤال: ۱۸۰

عنوان مواد امتحانی آزمون اختصاصی گروه آزمایشی علوم انسانی، تعداد، شماره سؤالات و مدت پاسخ‌گویی

ردیف	مواد امتحانی	تعداد سؤال	از شماره	تا شماره	مدت پاسخ‌گویی
۱	ریاضی	۲۰	۱۰۱	۱۲۰	۲۵ دقیقه
۲	اقتصاد	۱۵	۱۲۱	۱۳۵	۱۰ دقیقه
۳	زبان و ادبیات فارسی	۳۰	۱۳۶	۱۶۵	۳۰ دقیقه
۴	زبان عربی	۲۰	۱۶۶	۱۸۵	۲۰ دقیقه
۵	تاریخ	۱۵	۱۸۶	۲۰۰	۲۵ دقیقه
۶	جغرافیا	۱۵	۲۰۱	۲۱۵	
۷	علوم اجتماعی	۲۰	۲۱۶	۲۳۵	۱۵ دقیقه
۸	فلسفه و منطق	۲۵	۲۳۶	۲۶۰	۲۵ دقیقه
۹	روان‌شناسی	۲۰	۲۶۱	۲۸۰	۱۵ دقیقه

حق چاپ، تکثیر و انتشار سؤالات به هر روش (الکترونیکی و ...) پس از برگزاری آزمون، برای تمامی اشخاص حقیقی و حقوقی تنها با مجوز این سازمان مجاز می‌باشد و با متخلفین برابر مقررات رفتار می‌شود.

سال ۱۳۹۸

* داوطلب گرامی، عدم درج مشخصات و امضاء در مندرجات جدول ذیل، به منزله عدم حضور شما در جلسه آزمون است.

اینجانب..... با شماره داوطلبی..... با آگاهی کامل، یکسان بودن شماره سندلی خود را با شماره داوطلبی مندرج در بالای کارت ورود به جلسه، بالای پاسخنامه و دفترچه سؤالات، نوع و کدکنترل درج شده بر روی دفترچه سؤالات و پائین پاسخنامه ام را تأیید می نمایم.

امضاء:

۱۰۱- حاصل عبارت با معنی $\frac{2x^2-x}{4x^2-1} + \frac{x-1}{2x+1} - \frac{2x+1}{2x-1}$ به صورت $\frac{P(x)}{4x^2-1}$ است. کدام است؟

(۱) $-8x$ (۲) $-4x$ (۳) $-4x+1$ (۴) $2x-3$

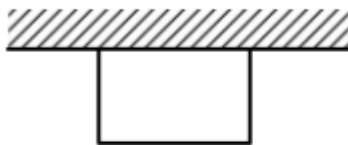
۱۰۲- به ازای کدام مقدار a ، معادله $1 - \frac{a+2}{x-1} = \frac{x-2}{ax-5}$ دارای جواب $x=3$ است؟

(۱) $1, -2$ (۲) $2, -\frac{1}{3}$ (۳) $1, -\frac{2}{3}$ (۴) $1, \frac{2}{3}$

۱۰۳- اگر رابطه $\{(3, a+2b), (5, 4), (7, 2), (3, 7), (5, 2a-b)\}$ یک تابع باشد، $a^2 - b^2$ کدام است؟

(۱) ۳ (۲) ۴ (۳) ۵ (۴) ۶

۱۰۴- می خواهیم با یک قطعه سیم به طول ۵۶ متر، زمینی به شکل مستطیل، که یک طرف آن دیوار است محصور شود. بیشترین مساحت زمین محصور شده، کدام است؟



(۱) ۳۶۴

(۲) ۳۷۸

(۳) ۳۹۲

(۴) ۴۰۶

۱۰۵- نمرات ادبیات دانش آموزی در ۱۰ آزمون به صورت زیر است. با حذف دو نمره کمترین و بیشترین آن ها، مقدار انحراف معیار، تقریباً کدام است؟

۱۱، ۲۰، ۱۵، ۱۶، ۱۵، ۹، ۱۴، ۱۵، ۱۲، ۱۴

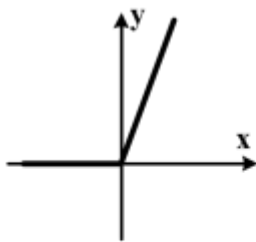
(۴) $1/6$

(۳) $1/5$

(۲) $1/2$

(۱) $0/9$

محل انجام محاسبات



۶- شکل روبه‌رو، نمودار کدام تابع است؟

(۱) $y = x - |x|$

(۲) $y = x + |x|$

(۳) $y = |x - 1| - 1$

(۴) $y = 1 - |x - 1|$

۷- در تابع $f(x) = [x + \frac{3}{4}] - [-x]$ ، مقدار $f(\frac{9}{4}) + f(-\frac{1}{4})$ ، کدام است؟

(۴) ۷

(۳) ۶

(۲) ۵

(۱) ۴

۸- اگر $f = \{(2,5), (3,4), (4,6), (1,7)\}$ و $g = \{(1,3), (2,6), (5,2), (4,9)\}$ باشند. برد تابع $g - f$ ، کدام است؟

(۲) $\{-4, 2, 3\}$

(۱) $\{-4, 1, 3\}$

(۴) $\{1, 2, 3, 4\}$

(۳) $\{-4, 1, 2, 3\}$

۹- با ارقام ۰، ۱، ۲، ۳، ۴، ۵، چند عدد چهار رقمی بخش‌پذیر بر ۵، بدون تکرار رقم‌ها، می‌توان نوشت؟

(۴) ۱۲۰

(۳) ۱۰۸

(۲) ۹۶

(۱) ۷۲

۱۰- یک سکه و یک تاس با هم پرتاب می‌شود. با کدام احتمال سکه «رو» و عدد تاس مضرب ۳ ظاهر می‌شود؟

(۴) $\frac{1}{3}$

(۳) $\frac{1}{4}$

(۲) $\frac{1}{6}$

(۱) $\frac{1}{12}$

۱۱- در دنباله اعداد $1, 2, 4, 7, 11, 16, \dots$ جمله دهم، کدام است؟

(۴) ۴۶

(۳) ۴۵

(۲) ۴۲

(۱) ۳۷

۱۲- مجموع ۳۰ عدد طبیعی فرد متوالی، با کوچک‌ترین عدد ۵۱، کدام است؟

(۴) ۲۴۰۰

(۳) ۲۲۵۰

(۲) ۲۱۰۰

(۱) ۱۸۰۰

۱۳- بین دو عدد ۴ و ۹۷۲، چهار عدد صحیح طوری قرار می‌دهیم که جملات دنباله هندسی از ۴ شروع و به ۹۷۲ ختم

شوند. مجموع این ۶ عدد، کدام است؟

(۴) ۱۶۵۴

(۳) ۱۵۴۶

(۲) ۱۴۶۸

(۱) ۱۴۵۶

۱۱۴- حاصل $8^{-\frac{1}{3}} \times 4^{\circ/12} \times 2^{\circ/76}$ ، کدام است؟

- (۱) $\frac{1}{4}$ (۲) $\frac{1}{2}$ (۳) ۱ (۴) ۲

۱۱۵- در تجزیه عبارت $x^4 - x^2 + 12x - 36$ ، کدام عامل ضرب، موجود نیست؟

- (۱) $x - 3$ (۲) $x - 2$ (۳) $x + 3$ (۴) $x^2 - x + 6$

۱۱۶- در تقسیم چند جمله‌ای $4x^3 - 8x^2 + 13x$ بر دو جمله‌ای $2x - 1$ ، مقدار چند جمله‌ای خارج قسمت، به ازای $x = -1$ ، کدام است؟

- (۱) ۹ (۲) ۱۰ (۳) ۱۱ (۴) ۱۲

۱۱۷- نمودار مستطیلی داده‌های پیوسته رسم شده است. با در نظر گرفتن دو دسته اضافی کناری، چند بر فراوانی از به هم پیوستن کدام نقاط مستطیل‌ها حاصل می‌شود؟

- (۱) رأس متناظر با کران پایین (۲) وسط اضلاع عمودی
(۳) رأس متناظر با کران بالا (۴) وسط اضلاع افقی

۱۱۸- اگر $f(x) = \frac{\sqrt{x+2}}{2x-1}$ باشد، $f(2) \times f(\frac{1}{4})$ ، کدام است؟

- (۱) -۴ (۲) -۳ (۳) -۲ (۴) -۱

۱۱۹- خط گذرنده از نقطه $(2, -5)$ و عمود بر خط به معادله $2x - y = 6$ ، محور y ها را با کدام عرض، قطع می‌کند؟

- (۱) -۴ (۲) -۳ (۳) ۱ (۴) ۲

۱۲۰- اگر $\log 2 = 0.301$ باشد، $\log \sqrt[3]{200}$ ، کدام است؟

- (۱) ۰/۷۴۲ (۲) ۰/۷۶۷ (۳) ۰/۸۰۳ (۴) ۰/۸۲۴

- ۲۱ کدام گزینه، دربردا نده پاسخ درست و کامل سوالات زیر است؟
- الف) براساس «.....» انسان موجودی سیری ناپذیر بوده و دارای نیازهای نامحدود است که منابع و ثروت‌های محدود جهان را در اختیار دارد.
- ب) فعالیت کدام گروه، خدماتی نیست؟
- ج) در مثال «اگر زمینی را به کشت پنبه اختصاص دادیم عملاً از گندمی که می‌توانستیم از آن برداشت کنیم صرف‌نظر کرده‌ایم.» کدام مورد به‌عنوان هزینه فرصت تلقی می‌شود؟
- ۱) الف) علم اقتصاد ب) کشاورزان ج) میزان محصول گندمی که از آن صرف‌نظر کرده‌ایم.
- ۲) الف) مبنای اعتقادی اسلام ب) پزشکان ج) میزان محصول پنبه‌ای که به‌دست آورده‌ایم.
- ۳) الف) مبنای اقتصاد سرمایه‌داری ب) مشاورین تهیه مسکن ج) مجموع میزان دو محصول و کاهش بهای گندم از پنبه
- ۴) الف) تفکرات مادی ب) مشاوران حقوقی ج) مابه‌التفاوت بهای مقداری خاص از گندم و مقدار خاصی از پنبه که به‌دست می‌آید.
- ۱۲۲- با توجه به اطلاعات ارائه شده در جدول زیر، نتیجه عملکرد سالیانه یک بنگاه اقتصادی با ۱۲ نفر کارمند و تولید سالیانه ۴۰۰ دستگاه هر کدام به ارزش = ۹۰۰,۰۰۰ ریال، کدام است؟

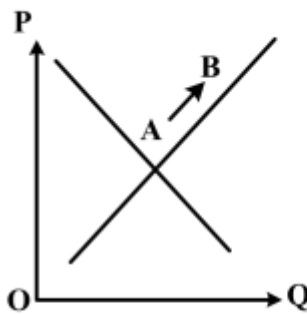
۱	اجاره بهای ماهیانه کارگاه تولیدی	۱۰,۰۰۰,۰۰۰ ریال
۲	حقوق متوسط ماهیانه هر فرد کارمند اداری و تولیدی، معادل	۷,۰۰۰,۰۰۰ ریال
۳	خرید مواد اولیه مورد نیاز سالیانه به ارزش	۱۷۸,۰۰۰,۰۰۰ ریال
۴	هزینه استهلاک سالیانه ماشین‌های تولیدی معادل	۲۵٪ حقوق سالیانه کارمندان

۲) ۴۳,۲۰۰,۰۰۰ ریال: سود

۱) ۴۲,۲۰۰,۰۰۰ ریال: زیان

۴) ۶۴,۰۰۰,۰۰۰ ریال: زیان

۳) ۶۳,۰۰۰,۰۰۰ ریال: سود



۱۲۳- با توجه به نمودار منحنی..... علت حرکت از نقطه A به B، کدام است؟

- (۱) تقاضا - افزایش عرضه
- (۲) عرضه - افزایش قیمت کالا
- (۳) تقاضا - کاهش مقدار عرضه
- (۴) عرضه - کاهش قیمت کالا

۱۲۴- با توجه به مندرجات جدول زیر، چنانچه ارزش مجموع اقلام: ماشین آلات، مواد غذایی و پوشاک در یک جامعه فرضی، ۱۵۰ میلیارد ریال باشد، در این صورت:

- الف) تولید خالص ملی
- ب) تولید خالص داخلی سرانه
- ج) تولید ناخالص داخلی در این جامعه، کدام است؟

جمعیت کل کشور	A	۳۵ میلیون نفر
ارزش تولید خارجیان مقیم کشور	B	۴۴ میلیارد ریال
هزینه استهلاک	C	$\frac{2}{3}$ ارزش تولید مردم که در خارج اقامت دارند
ارزش خدمات ارائه شده	D	$\frac{1}{4}$ ارزش تولید خارجیان مقیم کشور
ارزش تولید مردم کشور که در خارج اقامت دارند	E	۴۵ میلیارد ریال

(۲) الف (۱۷۵) ب (۴) ج (۲۰۶)

(۱) الف (۱۷۵) ب (۴) ج (۲۰۵)

(۴) الف (۱۷۶) ب (۵) ج (۲۰۶)

(۳) الف (۱۷۶) ب (۵) ج (۲۰۵)

محل انجام محاسبات

۲۵ طرفداران اقتصاد آزاد معتقدند که:

- (۱) دستیابی به ترکیبی بهینه از دولت - بازار، ضمانت اجرایی اداره بهتر جامعه در عرصه اقتصادی است.
 - (۲) بخش خصوصی به دلیل توجه به سود خود، فاقد صلاحیت لازم برای تصدی حوزه‌های اقتصادی جامعه است.
 - (۳) بخش خصوصی به روش بسیار بهتر و با مدیریت کارآمدتر می‌تواند از عهده اداره امور اقتصادی جامعه برآید.
 - (۴) بخش دولتی در صورتی که تصدی کارخانه‌ها و صنایع را به دست بگیرد، می‌تواند آن‌ها را به صورت کارآمد اداره نماید.
- ۱۲۶- مندرجات جدول زیر مربوط به اطلاعات استخراجی از حساب‌های ملی کشوری فرضی است. با توجه به داده‌های مذکور، سهم تولید خارجیان مقیم کشور، کدام است؟

تولید ناخالص ملی	۱	۲۵۵ هزار میلیارد ریال
------------------	---	-----------------------

۲	سهم تولید مردم کشور که در خارج اقامت دارند	۱۵ هزار میلیارد ریال
۳	تولید ناخالص داخلی	۲۵۰ هزار میلیارد ریال

۱۴ (۴)

۱۳ (۳)

۱۱ (۲)

۱۰ (۱)

- ۱۲۷- کدام گزینه، مشتمل بر پاسخ درست و کامل پنج پرسش زیر است؟
- الف) بودجه از زمان تهیه تا اجرا مراحل را طی می‌کند، سومین مرحله آن کدام است؟
- ب) یکی از مهم‌ترین دستگاه‌های مالی که در اجرای بودجه نقشی اساسی برعهده دارد، کدام است؟
- ج) مشخصات مالیات در هر کشور، تابعی از چه شرایطی است؟
- د) هزینه‌هایی که برای چرخش کار ادارات و نهادها صرف می‌شود، چه نام دارد؟
- ه) هزینه‌های مربوط به ساخت سدها، جاده‌ها یا خرید ماشین‌آلاتی مانند: بلدوزر، احداث کارخانه‌هایی چون: کارخانه‌های پتروشیمی و فولادسازی، چه نوع هزینه‌هایی هستند؟
- ۱) الف) اجرای بودجه ب) خزانه ج) اجتماعی و اقتصادی د) اداری ه) عمرانی
- ۲) الف) تأمین اعتبارات بودجه ب) بانک مرکزی ج) فرهنگی و اقتصادی د) پرسنلی ه) مؤبد
- ۳) الف) تصویب بودجه ب) کمیسیون اقتصادی مجلس ج) سیاسی و اجتماعی د) جاری ه) فرهنگی
- ۴) الف) نظارت بر اجرای بودجه ب) کمیسیون بودجه مجلس ج) فرهنگی و سیاسی د) عادی ه) اجتماعی

۲۸ با توجه به اطلاعات جدول زیر، با فرض اینکه عمر مفید ماشین آلات ۲۵ سال باشد، در این صورت:
الف) میزان هزینه استهلاک

ب) مقدار درآمد خالص سالیانه این بنگاه اقتصادی، کدام است؟

۱	خرید ماشین آلات	۳۰۰,۰۰۰,۰۰۰ ریال
۲	میزان درآمدزایی سالیانه	۸۰,۰۰۰,۰۰۰ ریال

۱) الف) ۱۴,۰۰۰,۰۰۰ ریال ب) ۸۶,۰۰۰,۰۰۰ ریال

۲) الف) ۱۲,۰۰۰,۰۰۰ ریال ب) ۶۸,۰۰۰,۰۰۰ ریال

۳) الف) ۱۲,۰۰۰,۰۰۰ ریال ب) ۸۶,۰۰۰,۰۰۰ ریال

۴) الف) ۱۴,۰۰۰,۰۰۰ ریال ب) ۶۸,۰۰۰,۰۰۰ ریال

۱۲۹- پاسخ درست و کامل سه سؤال زیر در کدام گزینه، مطرح شده است؟

الف) وجوهی که دولت از بابت: پست، آب، برق، گاز و تلفن دریافت می‌کند، چه نام دارد؟

ب) هزینه‌های «.....» هزینه‌هایی هستند که به‌طور دائم وجود دارند و متناسب با سیاست‌های دولت تغییر می‌یابند.

ج) حقوق و مزایای نظامیان، معلمان، قضات و نمایندگان مجلس، جزء چه نوع هزینه‌هایی است؟

۱) الف) بهای خدمات ب) جاری ج) پرسنلی

۲) الف) عوارض شهرداری ب) پرسنلی ج) جاری

۳) الف) ارزش افزوده ب) اداری ج) عادی

۴) الف) مالیات مستقیم ب) انتقالی ج) اداری

۹

- ج. ول زیر، دربردارندهٔ اقلام مختلف درآمدی است که در طول یکسال نصیب یک جامعهٔ فرضی شده است. با توجه به مندرجات این جدول:
- الف) درآمد ملی این جامعه، چقدر است؟
- ب) معنا و مفهوم سرانه چیست؟
- ج) کدام ردیف جدول، قیمت خدمات سرمایه و کدام ردیف، اجاره‌بها یا وجوه مربوط به اجاره است؟
- د) درآمد سرانه این جامعه، کدام است؟
- قابل توجه: درآمد کارمندان و کارگران موضوع ردیف‌های ۲ و ۶ به تفکیک محاسبه شده است.

ردیف	اقلام درآمدی	ارزش
۱	درآمد صاحبان سرمایه	۴۹۳ میلیارد ریال
۲	درآمد حقوق‌بگیران	$\frac{1}{3}$ مجموع درآمد ردیف‌های ۱ و ۷
۳	درآمد صاحبان مشاغل آزاد	$\frac{2}{5}$ مجموع درآمد ردیف‌های ۱ و ۵
۴	جمعیت کل کشور	۴۵ میلیون نفر
۵	سود شرکت‌ها و مؤسسات	۴۴۷ میلیارد ریال
۶	دستمزدها	$\frac{2}{3}$ سود شرکت‌ها و مؤسسات
۷	درآمد صاحبان املاک و مستغلات	۳۹۳ میلیارد ریال

- ۱) الف) 230×2 ب) سهم متوسط هر فرد جامعه از میزان تولید آن جامعه (ج) ردیف ۷ و ردیف ۱ (د) $15/51$
- ۲) الف) 230×2 ب) سهم متوسط هر فرد جامعه از میزان درآمد و تولید آن جامعه (ج) ردیف ۱ و ردیف ۷ (د) $15/51$
- ۳) الف) 230×3 ب) سهم متوسط هر فرد جامعه از میزان درآمد آن جامعه (ج) ردیف ۱ و ردیف ۷ (د) $15/51$
- ۴) الف) 230×3 ب) سهم متوسط هر فرد جامعه از میزان تولید و درآمد آن جامعه (ج) ردیف ۷ و ردیف ۱ (د) $15/51$
- ۱۳۱- در بررسی تحول جامعه و گسترش ظرفیت‌های تولیدی آن با دو مفهوم که رابطهٔ نزدیکی با هم دارند برخورد می‌کنیم که در گام نخست باید این دو را از هم بازشناسیم، آن‌ها کدام‌اند و به ترتیب هر کدام از آن‌ها بیانگر چه حالتی در افزایش تولید است؟

- ۱) فقر و رفاه - فقر مطلق، فقر نسبی
- ۲) مرکز و پیرامون - توسعه‌یافته، در حال توسعه
- ۳) رشد و توسعه - مفهوم کمی، مفهوم کمی و کیفی
- ۴) خودبسندگی و وابستگی - توسعه‌طلب، عقب‌مانده

- ۲ اطلاعات ارائه شده در جدول زیر، مربوط به یک جامعه فرضی است. با توجه به مندرجات این جدول:
- الف) ارزش پولی مسکوکات موجود در دست مردم چقدر است؟
- ب) میزان حجم شبه پول این جامعه، چقدر است؟
- ج) حجم کل پول موجود یا کل نقدینگی این جامعه، کدام است؟

۱	ارزش پولی موجودی حساب‌های قرض‌الحسنه	۱۲۸۰ واحد
۲	ارزش پولی مجموع مسکوکات در دست مردم	$\frac{۲}{۵}$ موجودی اسکناس‌ها
۳	ارزش پولی مجموع اسکناس‌ها	۲۰۰۰ واحد
۴	ارزش پولی سپرده‌های دیداری	۱۸۰ واحد
۵	ارزش پولی موجودی سپرده‌های مدت‌دار	۲۳۰ واحد
۶	ارزش پولی مجموع سپرده‌های دیداری و غیردیداری	۱۰۰۰ واحد

۱) الف) ۸۰۰ (ب) ۲۰۱۰ (ج) ۵۸۰۰ (الف) ۸۲۰ (ب) ۲۰۱۰ (ج) ۵۸۰۰

۳) الف) ۸۰۰ (ب) ۲۱۰۰ (ج) ۵۰۸۰ (الف) ۸۲۰ (ب) ۲۱۰۰ (ج) ۵۰۸۰

۱۳۳- کدام گزینه، بیانگر پاسخ درست و کامل چهار سؤال زیر است؟

- الف) بانک مرکزی مسئولیت کنترل شبکه بانکی و اداره سیاست پولی را با چه هدفی برعهده دارد؟
- ب) تولید غالب کدام کشورها به ترتیب: نفت - کاکائو - پنبه - فرش است؟
- ج) کدام مورد، در رابطه با آثار و نتایج تخصص بین‌المللی، نادرست است؟
- د) مطلب «در آن از دولت‌های امضاءکننده خواسته شده بود که دخالت خود را در امور تجارت بین‌الملل به کمترین حد برسانند تا بنگاه‌های تولیدی از قدرت و امکانات رقابتی یکسانی در سطح بین‌المللی برخوردار شوند.» مربوط به چیست؟
- ۱) الف) انجام عملیات تصفیه بین بانک‌ها (ب) ایران - غنا - مصر - هند (ج) نیروی تولیدی کل کشورهای جهان را می‌افزاید. (د) سازمان همکاری عمران منطقه‌ای یا آر - سی - دی
- ۲) الف) انجام دادن عملیات بانکی دولت (ب) نیجریه - برزیل - کوبا - ایران (ج) حجم کالاهای تولید شده جهان را افزایش می‌دهد. (د) سازمان کشورهای آسیای جنوب شرقی یا آ - سه - آن
- ۳) الف) نگهداری ذخایر قانونی (ب) ایران - برزیل - کوبا - هند (ج) در نتیجه این امر سطح زندگی مردم کشورهایی که در مبادلات بین‌المللی شرکت دارند، بهبود می‌یابد. (د) سازمان کشورهای آسیای میانه یا کشورهای حوزه دریای مازندران
- ۴) الف) حفظ ثبات پولی کشور (ب) نیجریه - غنا - مصر - ایران (ج) کشورها در صورت داشتن منابع مختلف تولیدی قادر به تولید و عرضه کالاها و خدمات با هزینه مساوی در کیفیت یکسان خواهند بود. (د) موافقت‌نامه عمومی تعرفه و تجارت یا گات

- ۴ ج و ل زیر، گویای وضعیت توزیع درآمد کشور B در سال ۱۹۸۰ میلادی است. با توجه به دو فرمول: نسبت ۲۰ درصد بالا به ۲۰ درصد پایین و نسبت ۱۰ درصد بالا به ۴۰ درصد پایین، ارائه کدام شاخص: الف) توزیع درآمد در این کشور را مناسب تر نشان می دهد؟ ب) مبین نامناسب تر بودن توزیع درآمد در این کشور است؟ ج) شاخصی که برای مقایسه وضعیت توزیع درآمد مورد استفاده قرار می گیرد، چگونه محاسبه می شود؟

۱	سهام دهک اول	۳ درصد
۲	سهام دهک دوم	۵ درصد
۳	سهام دهک سوم	۷ درصد
۴	سهام دهک چهارم	۹ درصد
۵	سهام دهک پنجم	۱۸ درصد
۶	سهام دهک ششم	۲۱ درصد

- ۱) الف) نسبت ۲۰ درصد بالا به ۲۰ درصد پایین ب) نسبت ۱۰ درصد بالا به ۴۰ درصد پایین ج) با محاسبه نسبت دهک ششم به دهک اول
- ۲) الف) نسبت ۲۰ درصد بالا به ۲۰ درصد پایین ب) نسبت ۵۰ درصد پایین به ۵۰ درصد بالا ج) با محاسبه نسبت دهک اول به دهک ششم
- ۳) الف) نسبت ۱۰ درصد بالا به ۴۰ درصد پایین ب) نسبت ۵۰ درصد بالا به ۵۰ درصد پایین ج) با محاسبه نسبت دهک اول به دهک ششم
- ۴) الف) نسبت ۱۰ درصد بالا به ۴۰ درصد پایین ب) نسبت ۲۰ درصد بالا به ۲۰ درصد پایین ج) با محاسبه نسبت دهک ششم به دهک اول
- ۱۳۵- کشورهای اروپایی هم، می توانند فرش دست بافت تولید کنند، اما در صورت انجام دادن چنین کاری زیان خواهند دید، علت آن کدام است؟
- ۱) حاکمیت تخصص بین المللی در اقتصاد جهانی امروز مانع این امر خواهد شد.
- ۲) هزینه های تمام شده فرش در ایران کمتر از هزینه های تمام شده این کالا در اروپاست.
- ۳) متخصصین سنتی مهاجر این کالا تخصص برتر خود را درست در اختیار این کشورها قرار نمی دهند.
- ۴) در این صورت کارخانجات تولید فرش ماشینی که کالاهایشان هم ارزان و هم مقرون به صرفه اقتصادی است، دچار زیان شده حتی ورشکسته خواهند شد.

۶ کدام عبارت، دربارهٔ کشف‌المحجوب کاملاً درست است؟

- (۱) به‌عنوان قدیمی‌ترین نثر صوفیانه مورد استفاده عارفان قرار گرفته است.
- (۲) تألیف ابوالحسن جلابی غزنوی میان سال‌های ۵۴۰ تا ۵۵۰ هـ. ق. است.
- (۳) موضوع کتاب، بیان شریعت و کیفیت عشق به پروردگار و سرگذشت انبیای الهی است.
- (۴) این کتاب به خواهش ابوسعید هجویری و در پاسخ به پرسش‌های عرفانی او تهیه شده است.

۱۳۷- کدام موارد، از دیدگاه «تاریخ ادبیات» درست است؟

- (الف) مرزبان‌نامهٔ وراوینی، مشتمل بر هشت باب است با یک مقدمه و یک ذیل
- (ب) مثنوی عشق‌نامهٔ سنایی که حدود هزار بیت دارد، پر از حقایق و معارف و مواعظ و حکم است.
- (ج) باب هشتم گلستان، بیش‌تر کلمات و جملات قصار است که به‌صورت ضرب‌المثل درآمده است.
- (د) حاصل سفر زیارتی - سیاحتی خاقانی کتاب «تحفة‌العراقین» است که یکی از سفرنامه‌های منثور حج در زبان فارسی است.

- (۱) الف، ب (۲) ب، ج (۳) ب، د (۴) ج، د

۱۳۸- کدام عبارت از دیدگاه تاریخ ادبیات، درست است؟

- (۱) تفسیر سوراآبادی از متون مهم سدهٔ ششم هجری است که ابوبکر عتیق نیشابوری در عصر سلطان سنجر آن را تألیف نمود.
- (۲) خواجه عبدالله انصاری در محضر ابوعبدالرحمن سلمی، تصوّف را آموخت و بعد از وی سمت جانشینی او را یافت.
- (۳) بخش عمدهٔ اشعار ابن یمین قطعات اوست و از این حیث باید او را پیشگام انوری، شاعر عصر سرپردازان دانست.
- (۴) اساسی‌ترین اندیشه‌های صوفیانهٔ عین‌القضات در رساله‌های یزدان شناخت و تمهیدات او جای دارد.

۱۳۹- با توجه به آثار مولوی، کدام گزینه، نادرست است؟

- (۱) استواری لفظ و هم‌نشینی مفهوم و اندیشه، در مثنوی بیش‌تر از غزلیات است.
- (۲) سبک نویسندگی مولانا در «فیه مافیه» بیش‌تر و بهتر از نوشته‌های دیگرش نمودار است.
- (۳) موسیقی کلام و آهنگ و درخشندگی کلمات در غزلیات بیش‌تر از مثنوی خود را نشان داده است.
- (۴) مولانا، بیش‌تر غزلیات شمس را در ایام همدمی با شمس یا در سوز فراق او و برخی را هم در زمان مصاحبت با صلاح‌الدین سروده است.

۱۴۰- توضیح مقابل کدام اثر، نادرست است؟

- (۱) خوشه‌های خشم: یکی از بهترین زمان‌های قرن بیستم آمریکا
- (۲) کم‌دی الهی: سفر روح به دوزخ و برزخ و بهشت
- (۳) بعدازظهر یک فون: بهترین نثر داستانی مالارمه
- (۴) نساجان: داستان ملال‌انگیز ستم بر دهقانان

۱۴۱- پدیدآورندهٔ هر یک از آثار زیر به ترتیب، چه کسی است؟

«کابوس‌های بیروت، حادثهٔ شرف، قهوه‌خانهٔ باشوره»

- (۱) غادة السّمان، یوسف ادريس، خليل سواحري
- (۲) غادة السّمان، جمال بنّوره، یوسف ادريس
- (۳) نزار قبّانی، محمود احمدالسید، غادة السّمان
- (۴) جبران خلیل جبران، یوسف ادريس، غالی شکری

۱۴۲- کدام عبارت، از لحاظ تاریخ ادبیات کاملاً درست است؟

- (۱) عندلیب، تخلص پسر صبای کاشانی، شاعر قرن ۱۳ هجری، است.
- (۲) صبای کاشانی کتاب براهین‌العجم را به تشویق لسان‌الملک سپهر نوشت.
- (۳) وصال شیرازی منظومهٔ بزم وصال خود را به تقلید از نظامی گنجه‌ای سرود.
- (۴) مجموعه آثار نظم نشاط اصفهانی در کتابی با عنوان گنجینهٔ نشاط باقی است.

۱۴۳- پدیدآورندگان آثار زیر در کدام گزینه، درست آمده است؟

«طاق‌دیس، عبرت‌نامه، حاجی بابای اصفهانی»

- (۱) ملا احمد نراقی، صبای کاشانی، جیمز موریه
- (۲) میرزا محمود مازندرانی، صبای کاشانی، جیمز موریه
- (۳) ملا احمد نراقی، صباحی بیدگلی، میرزا حبیب اصفهانی
- (۴) حاج ملا هادی سبزواری، وصال شیرازی، میرزا حبیب اصفهانی

- ۴۴ ک ام عبارت، از لحاظ تاریخ ادبیات «کاملاً» درست است؟
 (۱) قآنی کتاب پریشان خود را به شیوه بوستان به نظم درآورد.
 (۲) مشتاق اصفهانی پیشاهنگ سبک هندی در عصر صفوی است.
 (۳) فروغی بسطامی شاعر و نویسنده قرن ۱۱، ابتدا مسکین تخلص می‌کرد.
 (۴) مثنوی یوسف و زلیخای آذر بیگدلی از تأثیر سبک صائب برکنار نمانده است.
- ۱۴۵- نوشته‌ها و سرمقاله‌های طنزآمیز دهخدا در کدام روزنامه چاپ می‌شد و سبک او در چرند و پرنده، ادامه شیوه کدام شاعر است؟
 (۱) خراسان، عبید زاکانی
 (۲) دانشکده، ملک‌الشعراى بهار
 (۳) صوراسرافیل، عبید زاکانی
 (۴) صوراسرافیل، ملک‌الشعراى بهار
- ۱۴۶- کدام بیت، فاقد «ایهام» است؟
 (۱) چه سود نرگس سرمست را نصیحت بلبل
 (۲) در تابم از دو سنبل هندوت کز چه روی
 (۳) دلی کز خرمن شادی نشد یک دانه‌اش حاصل
 (۴) در پرده از ناراستی راه مخالف می‌زنی
- ۱۴۷- در کدام بیت تشبیه، استعاره و مجاز «همگی» وجود دارد؟
 (۱) گر بدین پسته خندان به چمن بنشینی
 (۲) تو در حسن، لیلای خرگه نشینی
 (۳) گر بوسه‌ای توان زد یاقوت آن دو لب را
 (۴) خاک سر راهت شدم ای لعبت چالاک
- ۱۴۸- آرایه‌های مقابل همه ابیات «کاملاً» درست است؛ به جز:
 (۱) گرچه در مصر فراموشی مقید مانده‌ایم
 (۲) حسرت برم از خسرو و فرهاد که در عشق
 (۳) نظر لطف ز مهر و مه کم کاسه مجوی
 (۴) معنی رنگین به نازکدل رساند خویش را
- ۱۴۹- آرایه‌های «مجاز، ایهام، حسن تعلیل و استعاره» به ترتیب، در کدام ابیات آمده است؟
 الف) به خون از نعمت الوان قناعت کن که مشک تر
 ب) زمین قابل اگر بهر فکر می‌طلبی
 ج) غنچه دلگیر ما را برگ شکرخند نیست
 د) تا دور از آن لب شکرین همچو نی شدیم
 (۱) ب، الف، ج، د (۲) ب، د، الف، ج (۳) ج، الف، د، ب (۴) ج، د، ب، الف
- ۱۵۰- ترتیب آرایه‌های «استعاره، حس آمیزی، حسن تعلیل، ایهام و لف و نشر» در کدام ابیات است؟
 الف) کاش در پرده شب و روز بپوشی رویت
 ب) ابر از آن پیدا شود کز رشک خورشید رخت
 ج) مگر ز چشم تو دم زد به گلستان نرگس
 د) همه فدای تو کردند جان شیرین را
 ه) تنگ شکر تلخکام از خنده شیرین او
 (۱) ب، د، ه، ج، الف (۲) ب، ه، الف، د، ج (۳) ج، د، الف، ب، ه (۴) ج، ه، ب، د، الف

۵۱ قافیه در همه ابیات درست است؛ به جز:

- (۱) از همه باشد به حقیقت گزیر
- (۲) ای خنده تو راهزن کاروان قند
- (۳) گرچه آتش نیز هم جسمانی است
- (۴) تو آنچ از تو سزد گفتمی و کردی

۱۵۲- قافیه در کدام بیت، نادرست است؟

- (۱) من کی‌ام آن را که شرح آن دهم
- (۲) چون بدیدش یاد آورد آن خویش
- (۳) مر مرا اینجا شکایت شکر شد
- (۴) می‌نماید مار اندر چشم مال

۱۵۳- در بیت زیر، همه اختیارات شاعری یافت می‌شود؛ به جز:

«گذار بر ظلمات است خضر راهی کو

(۱) ابدال

(۳) حذف همزه

از تو نباشد که نمداری نظیر
مانیش عشق خورده و لعل تو نوشند
نه ز روح است و نه از روحانی است
غم جان من بیچاره خوردی

ور دهم آن شرح، خط بر جان نهم
بی‌طمع شد ز اشتر آن یار و خویش
کفر ایمان گشت و ایمان کفر شد
هر دو چشم خویش را نیکو بمال

مباد کآتش محرومی آب ما ببرد»

(۲) کوتاه تلفظ کردن مصوت بلند

(۴) بلند تلفظ کردن مصوت کوتاه

۱۵۴- در کدام بیت، اختیار زبانی تغییر مصوت کوتاه به بلند و تغییر مصوت بلند به کوتاه صورت گرفته است؟

نیست ز روزن دگر روشنی این سرای را
نیست به سرمه حاجت آن چشم جنون فزای را
غوطه به زهر می‌دهد طوطی خوش نوای را
چند پر از نفس دهم آه شکسته پای را

(۱) داغ محبت است و بس خانه فرور جان و دل
(۲) باده عقل سوز را داروی بیهوشی مزن
(۳) آن شکرین لبی که من ناله از او چو نی کنم
(۴) سوخت بساط هستیم ریخت بنای طاقتم

۱۵۵- وزن بیت زیر، کدام است؟

«ای ساقی از آن پیش که مستم کنی از می

(۱) مستفعلُ مستفعلُ مستفعلُ فع

(۳) مستفعلُ فاعلاتُ مستفعلُ فع

۱۵۶- کدام بحر از بحرهای وزن دوری است؟

(الف) مضارع مثنی‌اخر ب مکفوف محذوف

(ج) مجتث مثنی‌مخبون

(۱) الف، ج (۲) ب، ج

۱۵۷- نام وزن کدام مصراع در مقابل آن غلط آمده است؟

(۱) یا رب به وقت گل گنه بنده عفو کن (رمل مثنی‌مخبون محذوف)

(۲) سوی من لب چه می‌گزی که مگوی (خفیف مسدس مخبون محذوف)

(۳) به بوی گل نفسی همدم صبا می‌باش (مجتث مثنی‌مخبون محذوف)

(۴) گوشه گرفتم ز خلق و فایدتی نیست (منسرح مثنی‌مطوی منحور)

۱۵۸- کدام بیت، از دیدگاه «نقد لغوی» قابل تأمل است؟

(۱) همه تیغ و گرز و کمنند آورید

(۲) همه تیغ و ساعد ز خون بود لعل

(۳) که گودرز و گیواندر آمد به جنگ

(۴) برفتند از آن جای، شیران نر

به ایرانیان، تنگ و بند آورید
خروش‌شان دل خاک در زیر نعل
سپه رانند باید کنون بی‌درنگ
عقاب دلاور برآورد پسر

-۱

ن

۵۹ در کدام گزینه، معنی مقابل همه واژه‌ها درست است؟

(۱) (بقت: بنا) (حرون: توسن) (مَدَر: گِل)

(۳) (قدیس: منزّه) (شنت: دشنام) (کتابه: سنگ قبر)

۱۶۰ مفهوم کلی عبارت زیر با کدام بیت، قرابت دارد؟

«... در عشق قدم نهادن کسی را مسلم شود که با خود نباشد و خود را ایثار عشق کند ... ای عزیز عشق بنده را به خدا رساند.»

(۱) فرشته عشق نداند که چیست ای ساقی

(۲) طفیل هستی عشقند آدمی و پری

(۳) در ازل پرتو حسنت ز تجلی دم زد

(۴) دست از مس وجود چو مردان ره بشوی

۱۶۱ رباعی زیر با کدام یک از ابیات، قرابت مفهومی دارد؟

«نه هر که زمانه کار او در بندد

بسیار کسا که اندرونش چو دهل

(۱) زمانه‌ای است که هر کس به خود گرفتار است

(۲) خوشم ز سنگ حوادث که استخوان مرا

(۳) طراز پیرهن زرکش مبین چون شمع

(۴) چون داغ لاله سوخته نانی است روزیم

۱۶۲ مفهوم کدام بیت با سایر ابیات، تفاوت دارد؟

(۱) می‌روم افتان و خیزان در پیش

(۲) آب چشمم مگر از خاک درت چاره شود

(۳) چندان گریستیم که هر کس که برگذشت

(۴) خنده بر بخت زخم یا به وفاداری دوست

۱۶۳ بیت زیر با همه ابیات تقابل مفهومی دارد؛ به جز:

«مرنجان دلم را که این مرغ وحشی

(۱) ما ز سر، سودای تو بگذاشتیم

(۲) مرغ مألوف که با خانه خدا انس گرفت

(۳) آنکه مرغ دلش از حسرت گل پر می‌زد

(۴) بر دل آویختگان عرصه عالم تنگ است

۱۶۴ بیت زیر، با کدام بیت، قرابت مفهومی دارد؟

«جان می‌دهم از حسرت دیدار تو چون صبح

(۱) دمی چون کوره آتش چرا چون شمع نگدازم

(۲) صبح اگر از بسترم خورشید تابد، دور نیست

(۳) همچو صبحم یک نفس باقی است تا دیدار صبح

(۴) تا برویام گل از کانون عشقی آتشین

۱۶۵ مفهوم کدام بیت با سایر ابیات، متفاوت است؟

(۱) جسم خاکی است حجاب نظر راهروان

(۲) جان که او جوهر است و در تن ماست

(۳) جان و دل و تن حجاب ره بود و کنون

(۴) تن و جان را چه کنم؟ مصلحت آن است که من

۵

(۲) (اندروا: آویخته) (بختی: شتر ماده) (غازه: جنگ)

(۴) (مَهَب: وزیدن گاه) (کوتل: اسب تندرو) (اعتاق: بندگی)

بخواه جام و گلابی به خاک آدم ریز

ارادتی بنما تا سعادت بیبری

عشق پیدا شد و آتش به همه عالم زد

تا کیمیای عشق بیابی و زر شوی

فریاد و جزع بر آسمان پیوندد

می‌نالد و چون برق لبش می‌خندد»

تو هم در آینه حیران حسن خویشتنی

چنان شکست که فارغ ز مومیایی کرد

که سوزهاست نهانی درون پیرهنم

آن هم فلک به خون جگر می‌دهد مرا

گرچه ز آب دیده پایم در گل است

ورنه این سیل پیایی بکنند بنیادم

در اشک ما دید روان گفت کاین چه جوست

گریه بر خویش کنم یا به گرفتاری دل

ز بامی که برخاست مشکل نشیند»

دل ز تو یکبارگی برداشتیم

گر به سنگش بزنی جای دگر می‌نرود

همچون بلبل ز چمن رفت و دگر باز آمد

کان که جایی به گل افتاد دگر جا نرود

باشد که چو خورشید درخشان به درآیی»

عزیز من دل عاشق که از آهن نخواهد شد

کز خیالش آفتابی هر شبم در بستر است

چهره بنما دلبرا تا جان برافشانم چو شمع

درهم آمیزد شرار برق و بارانم چو شمع

سیل چون گرد ره از خویش ستاند دریاست

کس نداند که جای او به کجاست

تن دل شد و دل جان شد و جان جانان گشت

ترک این هر دو کنم طالب جانانه شوم

■ ■ عَيْنُ الْأَصْحَ وَالْأَدَقُّ فِي الْجَوَابِ لِلتَّرْجُمَةِ أَوْ الْمَفْهُومِ أَوْ التَّعْرِيبِ (١٦٦ - ١٧٢)

۱۶۶- « كَيْفَ أَقْدَرُ أَنْ أُعْرَضَ عَنْكَ، وَ كُلُّ خَلَايَايَ لَا تُنَادِي إِلَّا بِإِيَّاكَ! »:

- ۱) چگونه می توانم از تو روی برگردانم، درحالیکه همه سلولهایم فقط تو را صدا می زنند!
 - ۲) چطور می توان از تو دوری جست، درحالیکه تمامی سلولهایم تنها تو را صدا می کنند!
 - ۳) چگونه قادرم از تو دوری بجویم، و حال اینکه سلولهای من همگی تو را فقط صدا می زنند!
 - ۴) چطور قادر باشم از تو رویگردان شوم، و حال اینکه همه سلولهای من جز تو را صدا نمی کنند!
- ۱۶۷- « الَّذِي مَا زَالَ يَتَعَبَّدُ وَلَكِنْ لَا يَتَكْفَلُ مَعَاشَ أَهْلِهِ فَهُوَ لَمْ يَعْبُدِ اللَّهَ أَبَدًا! »:

- ۱) آنکه عبادتی پیوسته کند و اما معیشت اهلش را برعهده نگیرد، پس هرگز خدا را عبادت نمی کند!
 - ۲) آنکه پیوسته عبادت می کند اما خرج خانواده اش را برعهده نمی گیرد، خدا را اصلاً عبادت نمی کند!
 - ۳) کسی که پیوسته عبادت کند ولی معاش خانواده خود را به عهده نگیرد، هرگز خدا را عبادت نکرده است!
 - ۴) کسی که عبادت می کند پیوسته ولیکن عهده دار مخارج خانواده نیست، پس او خدا را ابداً عبادت نکرده است!
- ۱۶۸- « مَا كَانَ مَسْرُورًا مِنْ بَيْنِ جَمِيعِ أَصْدِقَانِنَا إِلَّا الَّذِي وَ فِي بَعْدِهِ! »:

- ۱) از میان همه دوستان ما فقط کسی که به عهد خود وفا کرد، شادمان بود!
- ۲) کسی که به پیمان خود وفاداری کرد تنها شادمان در میان دوستان همه ما بود!
- ۳) در میان جمع دوستان ما، کسی فقط شاد بود که به عهد خویش وفا کرد!
- ۴) کسی در جمع دوستان ما فقط شاد بود که به پیمانش وفاداری کرد!

۱۶۹- عَيْنُ الْخَطَا:

- ۱) إِنَّ صِدَاقَةَ الْعَاقِلِ كَالجِرَّةِ الْأَثْرِيَّةِ الثَّمِينَةِ: دوستی با عاقل مانند کوزه باستانی با ارزش است،
- ۲) لَا تُطْرَحُهَا بَعِيدًا وَ إِنَّ كَانَتْ مَكْسُورَةً: حتی شکسته شده آن را هم دور نمی اندازیم،
- ۳) حِفْظُ الْأَشْيَاءِ الْقِيَمَةِ مِنْ أَعْمَالِ الْعُقَلَاءِ: نگهداری اشیاء گرانبها از کارهای عاقلان است،
- ۴) فَلَا تُفْقَدُ الْعَاقِلُ فِي الظَّرُوفِ الْمُخْتَلِفَةِ! پس عاقل را نباید در شرایط مختلف از دست بدهیم!

۱۷۰- « فَقَطْ امْرُوزٌ فِي دَسْتِ تَوَاسْتِ، غَاضِثَةٌ وَ آيُنْدَه دُو رُوْزِي هَسْتَنْدِ كِه نَمِي تَوَانِي هِيْجِ كَارِي دَرِ أَنَهَا اِنْجَامِ دَهِي! »:

- ۱) إِنَّمَا فِي يَدِكَ الْيَوْمَ، إِنَّ الْمَاضِي وَ الْمَسْتَقْبَلِ يَوْمَانِ لَا تَسْتَطِيعُ أَنْ تَعْمَلَ أَيَّ عَمَلٍ فِيهِمَا!
- ۲) لَيْسَ فِي يَدِكَ إِلَّا الْيَوْمَ، إِنَّ الْمَاضِي وَ الْآتِي الْيَوْمَانِ اللَّذَانِ لَسْتَ بِقَادِرٍ أَنْ تَعْمَلَ فِيهِمَا!
- ۳) إِنَّمَا الْيَوْمَ فِي يَدِكَ، إِنَّ الْمَاضِي وَ الْآتِي يَوْمَانِ اللَّذَانِ لَا تَقْدِرُ أَنْ تَعْمَلَ عَمَلًا فِيهِمَا!
- ۴) لَا يَوْمَ فِي يَدِكَ، كَانَ مَاضٍ وَ آتٍ هُمَا الْيَوْمَانِ لَسْتَ قَادِرًا بِأَيِّ عَمَلٍ فِيهِمَا!

- ۱۷۱- « چشمان ما تقریباً دارای ۲۸۰ میلیون گیرنده حساس به نور و یک میلیون بافت عصبی است! »:
- (۱) إِنَّ عَيْنَيْنَا لِهَمَا مَائَتَانِ وَ ثَمَانُونَ مَلِيُونِ مُسْتَقْبَلِ يَكُونُ حَسَاسًا أَمَامَ الضُّوْءِ تَقْرِيْبًا وَ مَلِيُونِ لَيْفٍ عَصْبِيٍّ!
- (۲) يَكُونُ عَدْدُ الْمُسْتَقْبَلِ الْحَسَّاسِ لِلنُّورِ فِي أَعْيُنِنَا مَائَتَيْنِ وَ ثَمَانِينَ مَلِيُونًا تَقْرِيْبًا وَ مَلِيُونِ لَيْفٍ عَصْبِيٍّ!
- (۳) يَكُونُ لَعْيُونِنَا مَائَتَانِ وَ ثَمَانُونَ مَلِيُونِ مُسْتَقْبَلِ يَكُونُ حَسَاسًا مُقَابِلِ النُّورِ وَ مَلِيُونِ لَيْفٍ تَقْرِيْبًا!
- (۴) إِنَّ لَعَيْنَيْنَا مَائَتَيْنِ وَ ثَمَانِينَ مَلِيُونِ مُسْتَقْبَلِ حَسَّاسٍ لِلضُّوْءِ وَ مَلِيُونِ لَيْفٍ عَصْبِيٍّ تَقْرِيْبًا!
- ۱۷۲- عَيْنُ الْخَطَا فِي ضَبْطِ حَرَكَاتِ الْكَلِمَاتِ:

- (۱) الطُّلَابُ الْمُؤَدَّبُونَ مُحْتَرَمُونَ عِنْدَ الْمُعَلِّمِينَ!
- (۲) سَامِحِيْنِي، أَنْتِ عَلَى الْحَقِّ، أُبَدِّلُ لَكَ الْبَطَاقَةَ!
- (۳) مِنْ فَضْلِكَ أَعْطِنِي بَطَاقَةً بِمَبْلَغِ خَمْسَةِ وَ عَشْرِينَ رِيَالًا!
- (۴) لِإِبْلَادِنَا تَجَارِبٌ كَثِيرَةٌ فِي صِنَاعَةِ نَقْلِ النَّفْطِ عَبْرَ الْأَنْبِيْبِ!

■ ■ عَيْنُ الصَّحِيْحِ فِي الْإِعْرَابِ وَ التَّحْلِيلِ الصَّرْفِيِّ (۱۷۳ - ۱۷۵)

- ۱۷۳- ﴿ رَبِّ! اجْعَلْنِي مُقِيمَ الصَّلَاةِ وَ مِنْ ذُرِّيَّتِي، رَبَّنَا وَ تَقَبَّلْ دُعَاءِ ﴾:
- (۱) دُعَاءٌ: اسم - مفرد مذكر - معرفة (علم) - معرب / فاعل لفاعل « تَقَبَّلَ » و مرفوع
- (۲) رَبِّ: اسم - مفرد مذكر - معرب / منادى و مضاف، و قد حذف ضمير الياء، أصله: يَا رَبِّي
- (۳) تَقَبَّلَ: فعل أمر - للمخاطب - مزيد ثلاثي (من باب تفعيل) - مبني / فعل و مع فاعله: جملَةٌ فعلية
- (۴) اجْعَلْ: فعل أمر - للمخاطب - مزيد ثلاثي (من باب إفعال) - متعدّد - مبني / فعل، و مفعوله ضمير الياء

۱۷۴- « خَيْرُ إِخْوَانِكُمْ مَنْ أَهْدَى إِلَيْكُمْ عِيُوبَكُمْ! »:

- (۱) إِخْوَانٌ: اسم - مثني مذكر (مفردة: أَخ) - معرب / مضاف إليه و مجرور
- (۲) أَهْدَى: فعل ماضي - للغائب - لازم - معلوم - مبني / فعل و مع فاعله: جملَةٌ فعلية
- (۳) خَيْرٌ: اسم تفضيل (أصله: أَخْيَرُ، على وزن أفعل) - معرب / مبتدأ و مرفوع، و الجملة اسمية
- (۴) عِيُوبٌ: اسم - جمع مكسر أو تكسير (مفردة: عَيْبٌ، مؤنث) - معرب / مفعول و منصوب

۱۷۵- « قَدْ بَلَغَنِي أَنْ رَجُلًا مِنْ فَتِيَّةِ أَهْلِ الْبَصْرَةِ دَعَاكَ إِلَى مَادِبَةٍ فَأَسْرَعْتَ إِلَيْهَا! »:

- (۱) أسرعت: فعل ماضٍ - للمخاطبة - مزيد ثلاثي (من باب إفعال) - متعدي - مبني / فعلٌ و مع فاعله: جملة فعلية
- (۲) فتية: اسم - مفرد مؤنث - معرفة - معرب / مجرور بحرف الجر؛ من فتية، جار و مجرور و خبر لحرف « أَنْ » المشبّه بالفعل
- (۳) مادية: اسم - مفرد مؤنث - اسم مفعول (مأخوذ أو مشتق من فعل « أدب » - نكرة - معرب / مجرور بحرف الجر؛ إلى مادية: جار و مجرور
- (۴) بلغ: فعل ماضٍ - للغائب - مجرد ثلاثي - معلوم - مبني / فعل و مع فاعله جملة فعلية؛ و النون: حرف وقاية

■ ■ عین المناسب للجواب عن الأسئلة التالية (۱۷۶-۱۸۵)

۱۷۶- عین ما فيه من المشتقات أكثر:

- (۱) الإنسان المتشائم ينظر إلى صعوبة الطريق،
- (۲) و المتفائل يشاهد المناظر الجميلة حوله،
- (۳) إنهما يصلان إلى المقصد النهائي،
- (۴) ولكن الأول مع الحسرة و الثاني مع اللذة!

۱۷۷- عین حرف الواو عاملاً:

- (۱) و الفجر ما رأيتُ في صلاة الصبح إلا جمالاً!
- (۲) نظرتي إلى العالم نظرة مملوءة بالسرور و الفرح!
- (۳) يتكفل أخي معاش أهلنا و هو يعمل عملاً صعباً!
- (۴) حصد الفلاح زرعه و هو وحيد جداً و لم يساعده أحدًا!

۱۷۸- عین جملة وصفية في محل إعراب الرفع:

- (۱) قولوا حقاً يُغضب أهل الباطل غضباً!
- (۲) أعيش الآن في راحة لا أريد أن أفقدها!
- (۳) أتحمّل مشقات تكون في مسير تقدّمي في الحياة!
- (۴) قد تنزل من السماء نعمة جاهزة لم نشاهدها من قبل!

۱۷۹- عین ما ليس فيه من النواسخ:

- (۱) إن إحدى طرق الراحة الإقدام في وقته!
- (۲) إنّما لهذا الشيخ العاقل تجارب قيّمة!
- (۳) لا حرص إلا أن يوقع الإنسان في التعب!
- (۴) كان هؤلاء المعلمون يُعلّمون الجهلاء!

١٨٠- عَيْن ما جاء فيه المفعول له:

- (١) يُهاجم شبابنا العدوَّ مهاجمة الأسود لأنهم أشدَّ حبًّا لله!
- (٢) كانت الأمُّ تحبُّ طبخ الطَّعام المفيد لأطفالها حبًّا كثيرًا!
- (٣) أفضلُ النَّاس هم الَّذِينَ يساعدون الفقراء حبًّا لله تعالى!
- (٤) إنَّ للطلَّاب حبًّا للحصول على الدَّرجات العالية في دروسه!

١٨١- عَيْن ما ليس فيه إغراء و لا تحذير:

- (١) الأمُّ و الأب مأوايان لأبنائهما!
- (٢) الكبر و الغرور فإنَّهما يُضيِّعان نفسك بسرعة!
- (٣) العين و النظر إلى ما ليس لكم!
- (٤) مجالسة الكذَّاب فإنَّها كسراب تُبعدك عن الحقيقة!

١٨٢- عَيْن ما ليس فيه التمييز:

- (١) قلبك كأنه الزَّجاج إنكسارًا!
- (٢) أنت أكثر منَّا شكوىً دائمًا!
- (٣) هو أحسن من الطَّيور الأخرى تغريدًا!
- (٤) ينبغي لنا أن نجعل السلوك الحسن أكبر همَّتنا جميعًا!

١٨٣- عَيْن المستثنى منه محذوفًا:

- (١) لا يهلك أحدٌ إلَّا من يستبدَّ برأيه!
- (٢) ما هدانا القرآن إلَّا للتي هي أقوم!
- (٣) لن ينالوا البرَّ إلَّا من يُنفقون من أموالهم!
- (٤) ما طالعتُ مجلَّات هذا اليوم إلَّا هذه المجلَّة الأدبيَّة!

١٨٤- عَيْن ما فيه من المحسنات اللفظيَّة:

- (١) نعم النوم، نوم يكون مثل اليقظة!
- (٢) بنس المرء من يمدحك حين يلقاك و يذمَّك في غيابك!
- (٣) من يعرف معنى الشرف لا يستطيع أن لا يكون شريفًا!
- (٤) العاقل من لا يخاف من الهزيمة و لا يفرح بالانتصار لأنَّهما لا يبقيان له!

١٨٥- عَيْن ما ليس فيه الحصر:

- (١) إنَّما العاقل من لا يفرَّ من العسر!
- (٢) من يهد الله فهو المُهتدي!
- (٣) بالتدرُّج تحصل السيادةُ لا بالتسرُّع!
- (٤) إنَّ التبسُّم للمؤمنين لنعم العادة!

تاریخ

- ۱۸۶- گنبد سلطانیه از نمونه‌های باشکوه معماری جهان اسلام، آرامگاه کدام ایلخان است؟
 (۱) گیخاتو (۲) اولجاتیو (۳) ابوسعید (۴) غازان خان
- ۱۸۷- کدام تمدن باستانی عظیم، در شرق کشور (استان کرمان) کشف گردید؟
 (۱) شهداد (۲) جیرفت (۳) شهر سوخته (۴) چغامیش
- ۱۸۸- مردم سرزمین کوچک هلند، با قیام علیه کدام کشور اروپایی به استقلال دست یافتند؟
 (۱) اسپانیا (۲) انگلستان (۳) پرتغال (۴) فرانسه
- ۱۸۹- کدام کشور آسیایی در پی انقلاب معروف میجی تا پایان قرن نوزدهم به کشوری صنعتی و قدرتمند تبدیل گردید؟
 (۱) اندونزی (۲) مالزی (۳) چین (۴) ژاپن
- ۱۹۰- نخستین مدرسه‌های جدید در دوره قاجار به وسیله چه کسی یا کسانی در ایران، تأسیس گردید؟
 (۱) امیرکبیر (۲) میرزا حسن رشديه (۳) مسیونرهای غربی (۴) میرزا حسین خان سپهسالار
- ۱۹۱- جنگ دوم جهانی، به واسطه رقابت‌های استعماری و افکار فاشیستی و نژادپرستی دولتمردان اروپایی، چند سال ادامه داشت؟
 (۱) چهار (۲) پنج (۳) شش (۴) هفت
- ۱۹۲- کدام فرد، رهبر منافقان یثرب در دوره حضرت محمد (ص) بود؟
 (۱) عبدالله بن اُبی (۲) حباب بن منذر (۳) سعد بن عباده (۴) مروان بن حکم
- ۱۹۳- علت دستگیری امام خمینی (ره) به وسیله عمال رژیم پهلوی و انتقال ایشان از شهر قم به تهران کدام است؟
 (۱) غیرقانونی اعلام کردن رفراندوم فرمایشی شاه
 (۲) اعتراض شدید به حمله مأموران رژیم به مدرسه فیضیه قم
 (۳) مخالفت صریح و قاطعانه با تصویب قانون خفت‌بار کاپیتولاسیون
 (۴) افشاکری علیه خاندان پهلوی و سیطره آمریکا و اسرائیل بر ایران

تاریخ

- ۱۹۴- در دوره کدام پادشاه صفوی، نفوذ زنان و خواجه‌سرایان افزایش یافته و آنان در امور کشور دخالت می‌کردند؟
 (۱) شاه صفی (۲) شاه سلیمان (۳) شاه عباس دوم (۴) شاه سلطان حسین
- ۱۹۵- قتل ناجوانمردانه ابومسلم خراسانی به دستور کدام خلیفه عباسی انجام گرفت؟
 (۱) هادی (۲) معتصم (۳) مأمون (۴) منصور
- ۱۹۶- کدام یک از منابع اطلاعاتی از گذشته‌ها، به مرور زمان اغلب به صورت مکتوب درمی‌آیند؟
 (۱) محسوسات (۲) مکتوبات (۳) معقولات (۴) منقولات
- ۱۹۷- در افسانه‌های کدام قوم باستانی، پهلوانی به نام گیل گامش، در جست‌وجوی زندگی جاوید به جزیره دیلمون سفر کرد؟
 (۱) آگد (۲) آشور (۳) سومر (۴) آموری
- ۱۹۸- کدام هنر برای نخستین بار در یونان باستان، از دل نمایش‌های آئینی پدید آمد؟
 (۱) تئاتر (۲) پرده‌خوانی (۳) مراسم جادویی طلب باران (۴) نمایش‌های تک‌گویی (مونولوگ)
- ۱۹۹- دلیل تحول روحی انسان‌ها در مسافرت به مناطق مختلف، کدام است؟
 (۱) دل‌کندن از شهر و دیار خود
 (۲) عادت‌شکنی و تجاربی که به همراه دارد.
 (۳) آشنایی با روحیه و اخلاق مردمان سرزمین‌های دیگر
 (۴) گشت‌وگذار در طبیعت و دیدن عجایب جهان، نشاط‌آور است.
- ۲۰۰- روزنامه کاغذ اخبار، به همت میرزا صالح شیرازی، در دوره کدام پادشاه قاجار انتشار یافت؟
 (۱) محمدشاه (۲) ناصرالدین شاه (۳) محمدعلی شاه (۴) مظفرالدین شاه

جغرافیا

۲

۲۰۱- کدام عبارت، با تقسیمات داخلی کشور ما مغایرت دارد؟

- ۱) هر دهستان از چند روستا تشکیل شده است و توسط دهیار اداره می‌شود.
- ۲) هر شهرستان از چند شهر تشکیل شده است و توسط شهردار اداره می‌شود.
- ۳) هر بخش از چند دهستان تشکیل شده است و توسط بخش‌دار اداره می‌شود.
- ۴) هر استان از چند شهرستان تشکیل شده است و توسط استاندار اداره می‌شود.

۲۰۲- چرا با دور شدن از کانون زمین لرزه، شدت آن کاهش می‌باید؟

- ۱) شدیدترین تنش در نقطه کانونی آن روی می‌دهد.
- ۲) تداوم حرکت موجب تجمع دوباره انرژی می‌شود.
- ۳) در محل‌های معینی از پوسته زمین، گسستگی وجود دارد.
- ۴) هرچه عمق کانونی زلزله کمتر باشد، شدت تخریب کاهش می‌یابد.

۲۰۳- با توجه به راهکارهای پیش‌بینی خطر سیل، کدام اقدام، فرصت مناسبی را برای «کاهش خسارت» فراهم می‌کند؟

- ۱) تهیه نقشه خطر برای مشخص کردن مناطق در معرض سیلاب
- ۲) مقایسه و بررسی مداوم تصاویر ماهواره‌ای از آثار طغیان رودها
- ۳) اندازه‌گیری باران در یک دوره طولانی و پیش‌بینی دوره بازگشت آن
- ۴) اعلام خطر بالا آمدن سطح آب رودها و رسیدن آن به نقطه بحرانی

۲۰۴- هوازگی شیمیایی و فیزیکی به ترتیب در کدام‌یک از نواحی کوهستانی کشورمان با سرعت بیشتری به تغییر شکل

ناهمواری‌ها می‌پردازند؟

- ۱) خزر غربی و خزر شرقی
- ۲) خراسان شمالی و خزر شرقی
- ۳) کردستان و آذربایجان
- ۴) خراسان جنوبی و نواحی داخلی

۲۰۵- کدام گزینه با «فرایند فرسایش یخچالی» مغایر است؟

- ۱) سرعت حرکت یخچال با تغییر دمای هوا، کاهش و یا افزایش می‌یابد.
- ۲) در نواحی کوهستانی با کاهش ارتفاع، ضخامت یخرفت کاهش می‌یابد.
- ۳) شکل عوارض طبیعی در نواحی کوهستانی با فرسایش یخچالی تغییر می‌یابد.
- ۴) با ذوب تدریجی توده یخ، به دلیل گذشت زمان، ضخامت یخچال کاهش می‌یابد.

۲۰۶- کدام «توان محیطی مناطق گرم و خشک» دلیل مناسبی برای «احداث رصدخانه بزرگ لاسیا در بیابان آناکاما در

کشور شیلی» است؟

- ۱) آسمان صاف و بدون ابر
- ۲) وسعت زیاد و جمعیت کم
- ۳) طول مدت ساعات آفتابی
- ۴) شدت تابش انرژی خورشیدی

۲۰۷- همه جمله‌ها به بیان درستی از «مقر» اشاره می‌کنند، به جز:

- ۱) شهر و روستا از آن نقطه گسترش می‌یابد.
- ۲) در ادامه حیات سکونتگاه نقش دارد.
- ۳) مکان واقعی سکونتگاه در آن جا بنا شده است.
- ۴) معمولاً بیانگر بافت تاریخی و قدیمی سکونتگاه است.

۲۰۸- کدام گزینه، دلایل مناسبی را برای «رشد شهرنشینی» در «قاره‌های در حال توسعه» بیان می‌کند؟

- ۱) نیاز کارخانه‌ها به نیروی کار و توسعه صنعتی
- ۲) رقم بالای موالید و افزایش نرخ رشد مطلق
- ۳) شروع انقلاب صنعتی و افزایش نرخ رشد طبیعی
- ۴) ورود به دوره صنعتی شدن و تغییر ساختمان سنی روستاها

جغرافیا

۳

۲۰۹- چرا هوای شهرها به خصوص در «بخش مرکزی آن» گرم تر می باشد؟

(۱) غلظت ذرات آلاینده در هوا زیاد است.

(۲) بر فراز شهرها جزیره حرارتی تشکیل می شود.

(۳) انرژی بیشتری را از خورشید دریافت می کند.

(۴) وجود ساختمان های بلندمرتبه، مسیر بادها را تغییر می دهد.

۲۱۰- در کدام عبارت «شکل سرزمینی» دو کشور، به درستی مقایسه شده است؟

(۱) کشورهای تایلند و افغانستان، دارای یک دالان با اهمیت استراتژیک هستند.

(۲) کشورهای شیلی و لهستان، در احداث جاده و خطوط آهن با مشکلاتی مواجه هستند.

(۳) کشورهای الجزایر و اندونزی، از کمترین و کوتاه ترین مرزهای قابل دفاع برخوردار هستند.

(۴) کشورهای ژاپن و نروژ، در نظارت بر همه قسمت های سرزمین، با دشواری روبه رو می شوند.

۲۱۱- با توجه به انواع شیوه های شناخت جغرافیایی، هر یک از موارد «الف»، «ب» و «ج» در کدام دسته قرار می گیرد؟

الف - بررسی توسعه فیزیکی شهر اهواز طی سال های ۱۳۶۵-۱۳۲۵

ب - آمایش توان های گردشگری و بازرگانی یک منطقه ساحلی

ج - شناخت نقش سیستم های فضایی، در توسعه نقش مذهبی شهر اهواز

(۱) الف - ساختاری ب - آینده نگر ج - تکوینی

(۲) الف - تکوینی ب - آینده نگر ج - ساختاری

(۳) الف - ساختاری ب - تکوینی ج - کارکردی

(۴) الف - تکوینی ب - آینده نگر ج - کارکردی

۲۱۲- در کدام گزینه، ترتیب عبارات مرتبط با «ورودی ها» و «خروجی ها» در «سیستم خاک» به درستی بیان شده است؟

(۱) آب ← ورودی، محصول کشاورزی ← خروجی، هوا ← ورودی، تعرق ← خروجی

(۲) بذر ← ورودی، محصول کشاورزی ← خروجی، تبخیر ← ورودی، ماشین آلات ← خروجی

(۳) انرژی خورشید ← ورودی، بذر ← خروجی، هوا ← ورودی، محصول کشاورزی ← خروجی

(۴) نیروی انسانی ← ورودی، ماشین آلات ← خروجی، محصول کشاورزی ← ورودی، تعرق ← خروجی

۲۱۳- چرا اصلی ترین پرسش جغرافیایی، کلمه استفهامی «کجا» است؟

(۱) برنامه ریزی برای آینده به شناسایی محیط زندگی نیاز دارد.

(۲) میان انسان و محیط پیرامون او ارتباط متقابل وجود دارد.

(۳) شناخت مکان ها و پدیده ها، بخشی از دانش جغرافیا است.

(۴) همه فعالیت های انسان، در مکان، شکل می گیرد.

۲۱۴- نقشه زیر «جزیره قشم» را در آب های «خلیج فارس» نمایش می دهد. چگونه می توان از «قسمت پنهان» آن، نقشه

توپوگرافی تهیه کرد؟

(۱) مشخص نمودن موقعیت و ابعاد پدیده ها به طور مستقیم

(۲) ترسیم وضعیت عارضه طبیعی با استفاده از آب نگاری

(۳) تبدیل عکس هوایی به نقشه، به کمک دستگاه های فتوگرامتری

(۴) مخابره داده های ماهواره ای به ایستگاه های زمینی و تبدیل آن ها به نقشه



۲۱۵- همه موارد زیر از «مخاطرات پیرامون کره زمین» به شمار می روند، به جز:

(الف) وقوع زمین لرزه، به دلیل از دست رفتن مقاومت پوسته زمین

(ب) کاهش ضخامت لایه ازن به دلیل افزایش دی اکسید کربن

(ج) افزایش روند فرسایش خاک بر اثر چرای بی رویه دام ها

(د) ذوب برف دریاچه قتل آتش فشانی بر اثر شروع فعالیت آن

۱ | ۱ | ۱

۴

- ۲۱- «علمی که موضوع آن به اراده و آگاهی انسان پدید می‌آید»، «قوه‌ای که درباره ارزش‌های فردی و اجتماعی داوری می‌کند» و «اندوخته اجتماعی شناخت بشری» را به ترتیب، چه می‌نامند و به چه منظور از «نمادها» استفاده می‌شود؟
- ۱) عملی - عقل عملی - فهم عرفی - انتقال معانی
 - ۲) نظری - عقل عرفی - فهم جمعی - انتقال هنجارها
 - ۳) عملی - عقل نظری - شناخت علمی - تغییر آرمان‌ها و ارزش‌ها
 - ۴) عقلی - عقل جمعی - شناخت عمومی - تأثیرگذاری بر کنش دیگران
- ۲۱۷- در ارتباط با در طول و عرض هم بودن جهان‌های اجتماعی، کدام یک درست نیست؟
- ۱) در نگاه عرضی به جهان‌های اجتماعی، فرهنگ‌ها و تمدن‌ها براساس آرمان‌ها و ارزش‌های خود تحولاتی را دنبال می‌کنند که مسیر این تحولات یکسان نیست.
 - ۲) در جوامع مکانیکی، تقسیم کار پیشرفته و گسترده شکل گرفته است درحالی‌که جوامع ارگانیکی دارای تقسیم کار در حد ساده و ابتدایی بوده و در طول یکدیگر قرار دارند.
 - ۳) پدیده‌های اجتماعی سرشار از معانی متفاوت‌اند و این معانی می‌توانند صورت‌های مختلفی داشته و جهان‌های اجتماعی متناسب با خود را در عرض یکدیگر ایجاد کنند.
 - ۴) جوامعی که در عرض یکدیگر قرار دارند، با روابط متقابل میان خود، می‌توانند از تجربیات یکدیگر استفاده کنند اما نمی‌توانند با حفظ هویت، مسیر فرهنگ دیگر را ادامه دهند.
- ۲۱۸- پیامدهای استفاده از عقل جمعی، توسط جامعه‌شناسی انتقادی چیست؟
- ۱) کاستی‌های علم تجربی را جبران می‌کند - شناخت علمی را کاشف حقیقت می‌داند.
 - ۲) شناخت علمی سیار و متغیر می‌شود - شناخت عمومی در حاشیه شناخت علمی قرار می‌گیرد.
 - ۳) شناخت علمی را در حاشیه شناخت عمومی قرار می‌دهد - شناخت علمی را کاشف حقیقت نمی‌داند.
 - ۴) شناخت علمی را معیاری برای درست و نادرست بودن شناخت عمومی نمی‌داند - خصلت محافظه‌کارانه جامعه‌شناسی را تثبیت می‌کند.
- ۲۱۹- در ارتباط با یک پدیده اجتماعی (مانند اعتیاد) به ترتیب هر یک از رویکردهای سه‌گانه جامعه‌شناسی، «پوزیتیویسم، تفهیمی و انتقادی»، چگونه به مطالعه می‌پردازند؟
- ۱) مطالعه اعتیاد با هدف شناخت، پیش‌بینی و کنترل آن در جامعه - پرداختن به این پدیده به عنوان کنش اجتماعی و فهم معانی آن - فهم این پدیده و توجه به نقش آگاهی و اراده در آن
 - ۲) مطالعه اعتیاد به روش تجربی و یافتن راه‌حلی برای کنترل آن - فهم معانی رفتار کنش‌گران و بهره‌گیری از روش تجربی - داوری ارزشی و هنجاری در مورد آن بدون استفاده از روش تجربی
 - ۳) پرداختن به علت اعتیاد در جامعه و یافتن راه‌حلی برای کنترل آن - مطالعه اعتیاد با روش تجربی و ارزیابی هنجاری آن - پرداختن به این پدیده به عنوان کنش انسانی با روش حسی و تجربی
 - ۴) شناخت پدیده اعتیاد و یافتن علت ایجاد و افزایش آن در جامعه - مطالعه اعتیاد با روش تجربی و نقد وضعیت موجود جامعه - توصیف و فهم این پدیده به عنوان یک کنش اجتماعی و ارائه راهکار برای کاهش آن
- ۲۲۰- نوع هر یک از ویژگی‌های هویتی ذکر شده را به ترتیب، مشخص کنید:
- «روستایی، منضبط، کارمند»
- ۱) فردی، متغیر و اکتسابی - انتسابی، اجتماعی و ثابت - فردی، اکتسابی و ثابت
 - ۲) انتسابی، متغیر و اجتماعی - اخلاقی، فردی و ثابت - شخصی، متغیر و فرهنگی
 - ۳) اکتسابی، ثابت و فردی - ثابت، اجتماعی و انتسابی - اجتماعی، متغیر و اکتسابی
 - ۴) انتسابی، اجتماعی و ثابت - فردی، اکتسابی و متغیر - متغیر، اکتسابی و اجتماعی

- ۱ ا ۲۲۱ پروسۀ دگرگونی فرهنگ، چگونه صورت می‌گیرد؟
- (۱) از دست رفتن ثبات و استقرار مبادی هویت‌ساز فرهنگ ← تزلزل فرهنگی ← ناتوانی جامعه در حفظ و دفاع از عقاید و ارزش‌های اجتماعی ← بحران هویت ← فراتر رفتن تغییرات اجتماعی از محدوده تغییرات درون یک فرهنگ
- (۲) تداوم شیوۀ زندگی ناسازگار با عقاید و ارزش‌های اجتماعی ← تعارض فرهنگی ← ناتوانی جامعه در دفاع از هنجارها و نمادهای اجتماعی ← بحران هویت ← تزلزل فرهنگی
- (۳) ناتوانی جامعه در حفظ عقاید و ارزش‌های اجتماعی ← تعارض فرهنگی ← تداوم شیوۀ زندگی ناسازگار با عقاید و ارزش‌های اجتماعی ← تزلزل فرهنگی ← بحران هویت
- (۴) عدم استقرار مبادی هویت‌ساز فرهنگ ← تزلزل فرهنگی ← تداوم شیوۀ زندگی ناسازگار با عقاید و ارزش‌های اجتماعی ← بحران هویت ← تحول هویتی فرهنگ
- ۲۲۲- در رابطه با موضوع قدرت و اقتدار هر یک از مطالب زیر با چه مفهومی مرتبط است؟
- بدون پذیرش و توافق دیگران پدید نمی‌آید.
- بدون استفاده از تهدید و با رضایت طرف مقابل به دست می‌آید.
- رانندۀ متخلفی که جریمه می‌شود.
- (۱) قدرت - اقتدار - قدرت فاقد مشروعیت
- (۲) مقبولیت - مشروعیت - تبعیت با اکراه
- (۳) اقتدار - قدرت اجتماعی - اقتدار غیر مشروع
- (۴) قدرت اجتماعی - قدرت مقبول - قدرت مشروع فاقد مقبولیت
- ۲۲۳- موارد زیر، به ترتیب پیامد، ویژگی و بیانگر چیست؟
- پیشگیری از گردش ثروت بین قشرهای محدودی از جامعه
- جنبه ابزاری داشتن جامعه‌شناسی
- دیدگاه اخوان الصفا در رابطه با تعامل بخش‌های مختلف هویتی
- (۱) وضع قوانین و مقررات مالی توسط نظام اقتصادی - جامعه‌شناسی پوزیتیویستی - تأثیر طبیعت و بدن بر جامعه و فرهنگ
- (۲) وضع قوانین و مقررات مالی توسط نظام سیاسی - جامعه‌شناسی تفهیمی - تأثیر جغرافیا بر زندگی اجتماعی انسان
- (۳) تأثیر نظام سیاسی بر اقتصادی - جامعه‌شناسی قرن بیستم - تأثیر مناسبات اجتماعی بر محیط جغرافیایی
- (۴) تأثیر نظام اقتصادی بر سیاسی - روشنگری - تأثیر ویژگی‌های اخلاقی بر جامعه و فرهنگ
- ۲۲۴- پاسخ هر یک از سؤال‌های زیر به ترتیب، کدام است؟
- هدف از حذف پوشش دینی در دورۀ رنسانس چه بود؟
- رفتار متناسب با منافع آیندگان بیان‌کنندۀ چیست؟
- جنبش عدم تعهد در برابر کدام سیاست شکل گرفته است؟
- (۱) بازگشت به فرهنگ اساطیری - هنجار اجتماعی - کاهش اهمیت مرزهای سیاسی
- (۲) عبور از مسیحیت و تداوم فرهنگ یونان - جامعه‌پذیری - عدم حمایت از جنبش‌های اسلامی
- (۳) بسط ابعاد دنیوی و این جهانی خود - کنش اجتماعی - جهانی‌سازی قدرت‌های برتر اقتصاد اروپایی و آمریکایی
- (۴) بازگشت به فرهنگ یونان و رم باستان - پدیدۀ اجتماعی - نادیده گرفتن ملت‌های مسلمان در جریان جهانی‌سازی
- ۲۲۵- به ترتیب، هر یک از این وقایع با کدام دوران تاریخی ارتباط دارند؟
- شکل‌گیری حقوق طبیعی بشر
- توجیه دینی رفتارهای دنیوی نظام فئودالی
- قطع روابط تجاری ژاپن با کشورهای غربی
- (۱) قرون وسطی - قبل از انقلاب فرانسه - شرایط نیمه استعماری
- (۲) رنسانس - قرون وسطی - قرن هفدهم و بعد از نفوذ مسیحیت
- (۳) انقلاب فرانسه - حاکمیت لیبرالیسم - نفوذ گروه‌های فراماسونری
- (۴) مدرن - قبل از تشکیل دولت ملتها - قرن نوزدهم و بعد از نفوذ مسیحیت

۲۲- موارد زیر، به ترتیب با چه موضوعی ارتباط دارند؟

- نوع لباس پوشیدن

- بی توجهی به سلوک‌های معنوی

- جهان وطنی

(۱) ارزش اجتماعی - بحران معرفت شناختی - نفی ناسیونالیسم

(۲) پدیده اجتماعی - اندیشه اومانیستی - آرمان سیاسی لیبرالیسم

(۳) مصادیق فرهنگ - ادبیات مدرن - آرمان سیاسی فراماسونرها

(۴) کنترل اجتماعی - سکولاریسم آشکار - ارزش‌های اجتماعی فراماسونرها

۲۲۷- درست و غلط بودن عبارات زیر را به ترتیب، مشخص نمایید؟

- جامعه‌شناسی قرن نوزدهم، روش تجربی را تنها راه درست برای شناخت حقایق امور می‌دانست.

- جوامع غربی دانش‌هایی را که نقش راهبردی برای کشورهای در حال توسعه دارند، به آن‌ها آموزش می‌دهند.

- اصطلاح شمال و جنوب، بعد از جنگ جهانی اول بیشتر به کار برده شد.

- در یک جامعه واحد، در گذر زمان امکان تغییر فرهنگ واقعی و آرمانی آن جامعه وجود دارد.

(۱) د - د - غ - غ (۲) د - غ - غ - د (۳) غ - د - غ - د (۴) غ - غ - د - د

۲۲۸- پاسخ هر یک از سوالات زیر به ترتیب، کدام است؟

- کدام جریان، به بهانه ایمان و وحی، اعتبار عقل را از بین برد؟

- پس از کدام یک از مراحل شناخت، داوری ارزشی جزء علوم اجتماعی دانسته شد؟

- ویژگی کدام یک از جهان‌های اجتماعی، تقدس و معنویت است؟

(۱) فراماسونری پس از قرون وسطی - بسنده نکردن به شناخت حسی و تجربی - فاضله

(۲) حرکت‌های اعتراض‌آمیز مذهبی - اهمیت دادن به حس و تجربه در علوم اجتماعی - فوق طبیعی

(۳) سکولاریسم پنهان - مطالعه پدیده‌های اجتماعی مانند یکی از پدیده‌های اندام‌وار طبیعی - توحیدی

(۴) رویکرد دنیوی ارباب کلیسا طی قرون وسطی - فهم پدیده‌های اجتماعی برای پیش‌بینی و کنترل آن‌ها - اساطیری

۲۲۹- عبارت درست درباره ویژگی‌های جامعه جهانی قبل از ظهور غرب جدید، کدام است؟

(۱) فرهنگ کشورهای غیرغربی در حاشیه روابط و سازمان‌های سیاسی و اقتصادی جهانی وضعیتی آسیب‌پذیر داشت - سرنوشت تعاملات فرهنگی تابع روابط سیاسی، نظامی یا اقتصادی بود.

(۲) سرنوشت تعامل فرهنگی را تابع روابط سیاسی، نظامی یا اقتصادی قرار می‌داد - فرهنگ‌های مختلف می‌توانستند از مرزهای جغرافیایی خود از طریق روابط تجاری یا گفت و گوهای مستقیم علمی و معرفتی عبور کنند.

(۳) روابط اقتصادی، سیاسی، نظامی و فرهنگی بین کشورهای مختلف با حاکمیت‌های متفاوت برقرار بود - فرهنگ‌ها و تمدن‌های مختلف، هر یک در بخشی از جهان، حاکمیت و قدرت سیاسی مربوط به خود را به وجود آورده بودند.

(۴) نظامات سیاسی و اقتصادی شکل گرفته بود که جوامع غربی را به صورت جوامع مرکزی و دیگر جوامع را به صورت پیرامونی درآورد - فرهنگ‌ها و تمدن‌های مختلف، هر یک در بخشی از جهان، حاکمیت و قدرت سیاسی مربوط به خود را به وجود آورده بودند.

۲۳۰- به ترتیب هر یک از موارد زیر، نتیجه کدام بحران است؟

- آسیب دیدن مجموعه نظام اجتماعی

- چالش در حوزه‌های مختلف روابط انسانی و اجتماعی

- پسامدرنیسم

(۱) معرفتی - سیاسی - هویتی

(۲) سیاسی - اقتصادی - علمی

(۳) فقر و غنا - معرفتی - معنوی

(۴) اقتصادی - زیست‌محیطی - معرفتی علمی

۲۳۱- این موارد به ترتیب، عملکرد چه کسانی و چه جریاناتی بود؟

- باز شدن راه استثمار برای صاحبان ثروت

- موفق شدن در مقابله با استعمار قدیم

- مخدوش ساختن استقلال سیاسی و اقتصادی جوامع اسلامی

(۱) نظام سلطه - انقلاب اسلامی ایران - روشنفکران چپ

(۲) لیبرالیسم - انقلاب‌های آزادی‌بخش - منورالفکران غرب‌زده

(۳) امپریالیسم - کشورهای زیر نفوذ بلوک شرق - کانون‌های ثروت و قدرت

(۴) بازارهای مشترک منطقه‌ای - بیدارگران اسلامی - کشورهای استعمارگر

نمونه تاریخی	ویژگی فعالیت اجتماعی سیاسی
ج جنبش تنباکو الف	همکاری با حاکم نامشروع در حدّ واجبات نظامیه ب تغییر ساختار سیاسی

- ۱) انقلاب مشروطه - اصلاح رفتار حاکمان - تدوین رساله جهادیه
- ۲) جنبش تنباکو - اصلاح ساختار حکومت - حکم میرزای شیرازی
- ۳) جنبش عدالتخانه - مقاومت منفی - اقدامات سید جمال‌الدین اسدآبادی
- ۴) اصلاحات امیرکبیر - اصلاح ساختار حکومت - حضور فعال عالمان دینی در مقابله با روسیه تزاری

۲۳۳- کدامیک در رابطه با روشنفکران چپ کشورهای اسلامی درست است؟

- ۱) مورد حمایت بلوک شرق - عدم اعتراض به نسل اول به دلیل اسلام‌ستیزی - تداوم جاذبه پس از فروپاشی بلوک شرق
- ۲) حرکت اجتماعی برخی از آنان به صورت مکاتب غیر توحیدی - مورد حمایت بلوک غرب - تداوم جاذبه تا حفظ جاذبه‌های روشنفکری چپ در سطح جهانی
- ۳) خودداری برخی از آنان از رویارویی مستقیم با باورهای دینی مردم - سازمان دادن حرکت‌های خود در چارچوب اندیشه‌های لیبرالیستی - مورد حمایت بلوک غرب و شرق
- ۴) سازمان دادن حرکت‌های خود در چارچوب اندیشه‌های ناسیونالیستی، سوسیالیستی و مارکسیستی - تداوم جاذبه تا هنگام فروپاشی بلوک شرق - اعتراض به نسل اول روشنفکران نسبت به عملکرد اقتصادی نظام‌های سرمایه‌داری و لیبرالیستی

۲۳۴- هر یک از موارد زیر به ترتیب، به چه علت پدید آمده‌اند؟

- حاکمیت کنت‌ها و لردها

- تحولات فرهنگی (علل درونی)

- جهان‌های مختلف

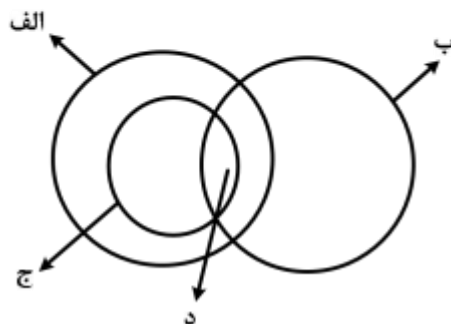
- ۱) افول حاکمیت فئودال‌ها - ابداعات مثبت و منفی اعضای جامعه - تنوع آموزش و تربیت انسان‌ها
- ۲) نادیده گرفتن خصوصیات نژادی و قومی - پذیرش ارزش‌ها و عقاید فرهنگ‌های دیگر - تغییر نسل‌ها
- ۳) زوال تدریجی قدرت کلیسا - کاستی‌ها و بن‌بست‌های موجود در هویت فرهنگ - تنوع معرفت، اراده و اختیار انسان‌ها
- ۴) شکل‌گیری انقلاب فرانسه - اخذ عناصری از هنجارها و شیوه‌های زندگی فرهنگ‌های دیگر - تغییر سبک و شیوه زندگی انسان‌ها

۲۳۵- به ترتیب، کدامیک دیدگاه نظری ارسطو، ماکس وبر و اگوست کنت است؟

- ۱) در حکومت دموکراسی، مردم براساس آراء خود حکومت می‌کنند - نظام اجتماعی برنامه‌ریزی شده را مانند قفس آهنین تلقی می‌کرد - دخالت دولت در اقتصاد را نفی می‌کرد.
- ۲) اقلیتی که بر مبنای میل و خواست خود تصمیم می‌گیرند را الیگارشی می‌نامید - جهان متجدد از هیچ‌گونه قداستی برخوردار نیست - با رشد علم تجربی و صنعت، ثروت از طریق غلبه بر طبیعت به دست می‌آید.
- ۳) حکومت اکثریت مردم براساس خواسته‌های نفسانی را جمهوری می‌نامید - جامعه‌شناسی علمی به دلیل خصلت تجربی خود نمی‌تواند دآوری ارزشی کند - جنگ امری عارضی و تحمیلی در جامعه جدید غربی است.
- ۴) حکومت فردی که فضیلت و حقیقت را ملاک حکومت می‌داند، مونارشی می‌نامید - موضوع جامعه‌شناسی را کنش اجتماعی معرفی می‌کرد - عملیات نظامی قدرت‌های غربی را در مقابله با مقاومت‌های کشورهای غیرغربی توجیه می‌کرد.

۳ کدام عبارت درباره دانش منطق درست است؟

- (۱) چپستی ذهن را مورد بررسی قرار می‌دهد.
- (۲) ناچار است مواد خود را از سایر دانش‌ها بگیرد.
- (۳) قواعد آن به تدریج توسط منطق‌دانان طراحی شده است.
- (۴) چگونگی و ماهیت شناخت‌های انسان را توضیح می‌دهد.



۲۳۷- شکل زیر، نسبت میان مصادیق کدام مفاهیم را به درستی نشان می‌دهد؟

- (۱) الف: درخت؛ ب: سبزه؛ ج: میوه؛ د: سیب
- (۲) الف: میوه؛ ب: سیب؛ ج: سبزه؛ د: سیب سبز
- (۳) الف: میوه؛ ب: شیرین؛ ج: سیب؛ د: سیب شیرین
- (۴) الف: سیب؛ ب: شیرین؛ ج: میوه؛ د: سیب شیرین

۲۳۸- کدام عبارت درست است؟

- (۱) از وظایف دانش منطق، تعریف مفاهیم مختلف است.
- (۲) سنجش رعایت قواعد تعریف، از طریق دانش منطق امکان‌پذیر است.
- (۳) ذهن برای شناختن مفاهیم مختلف، ناچار است از تعریف استفاده کند.
- (۴) استفاده از تعریف در فرهنگ لغات، نمونه‌ای از کاربرد منطق در علوم است.

۲۳۹- محمول در قضیه «هرکس وسیله‌ای با خود آورده بود» و موضوع در قضیه «بی‌شک این سی مرغ آن سیمرغ بود»،

کدام‌اند؟

- (۱) آورنده وسیله با خود - بی‌شک
- (۲) وسیله‌ای با خود - این سی مرغ
- (۳) با خود آوردن - بی‌شک این سی مرغ
- (۴) آورنده وسیله با خود - این سی مرغ

۲۴۰- کدام عبارت، قضیه شخصی است؟

- (۱) دست‌هایت را بشوی.
- (۲) از کار دست کشید.
- (۳) انسان عصر ما، تنها است.
- (۴) سرب برای انسان مضر است.

۲۴۱- می‌دانیم که «بعضی از شاگردان رشته انسانی در کنکور هنر شرکت می‌کنند»؛ صدق یا کذب کدام دو قضیه، نامعلوم

است؟

- (۱) بعضی از شاگردان رشته انسانی در کنکور هنر شرکت نمی‌کنند - بعضی از کنکوری‌های هنر، رشته انسانی هستند.
- (۲) بعضی از کنکوری‌های رشته هنر، رشته انسانی هستند - بعضی از شاگردان رشته انسانی، در کنکور هنر شرکت نمی‌کنند.
- (۳) بعضی از کنکوری‌های رشته هنر، رشته انسانی هستند - بعضی از شاگردانی که در کنکور هنر شرکت نمی‌کنند، رشته انسانی هستند.
- (۴) بعضی از شاگردان رشته انسانی، در کنکور هنر شرکت نمی‌کنند - بعضی از شاگردانی که در کنکور هنر شرکت نمی‌کنند، رشته انسانی هستند.

۲۴۲- کدام عبارت، بیانگر یک تمثیل است؟

- (۱) قابلمه و دسته آن هر دو فلزی هستند؛ پس هیچ‌یک نمی‌سوزند.
- (۲) این حیوان سم‌دار است؛ بنابراین مانند سایر سم‌داران علفخوار است.
- (۳) ماه تولد مریم با برادرش یکی است؛ بنابراین او خلق و خوی برادرش را دارد.
- (۴) هر کتابی که مریم خوانده، داستانی است؛ پس مریم کتاب‌های داستانی می‌خواند.

۹

۴۳ نتیجه قیاسی عبارت است از «هوا وزن دارد». این قضیه را از کدام یک از قیاس‌های زیر به‌طور معتبر می‌توان نتیجه گرفت؟

- (۱) هوا ماده است. هر دارای وزنی ماده است.
 (۲) هوا دارای ماده است. هر ماده‌ای وزن دارد.
 (۳) اگر چیزی ماده باشد، وزن دارد. هوا ماده است.
 (۴) اگر چیزی وزن داشته باشد، ماده است. هوا ماده است.

۲۴۴- کدام عبارت، بیانگر یک برهان آئی است؟

- (۱) مریم غذای تو را برده است؛ بنابراین در یخچال دنبال آن نگرد.
 (۲) لگن او به شدت شکسته است؛ بنابراین دچار پوکی استخوان است.
 (۳) سایه دزد را دیدم که از دیوار به پایین پرید؛ الان سگ پارس می‌کند.
 (۴) دندان‌های او ریخته است؛ پس به زودی دچار ناراحتی معده خواهد شد.

۲۴۵- اگر درستی دو قضیه زیر را بدانیم:

«الف مساوی ب است.» ؛ «ب مساوی ج است.»، کدام عبارت را از نظر منطقی می‌توانیم درباره آن‌ها بیان کنیم؟

- (۱) دو قیاس معتبر شکل اول و چهارم با آن‌ها تشکیل می‌شود.
 (۲) با این دو قضیه، نمی‌توان یک قیاس اقترانی معتبر تشکیل داد.
 (۳) با توجه به درستی مقدمات، صدق نتیجه نیز ضروری است.
 (۴) فقط قیاسی از شکل اول با نتیجه: «الف مساوی ج است.» را تشکیل می‌دهد.

۲۴۶- کدام عبارت درست است؟

- (۱) بررسی مصادیق رابطه علیت، برعهده علوم است.
 (۲) همه اشیا در چیستی یا ماهیت با یکدیگر مشترک‌اند.
 (۳) فلسفه اولی کوششی است برای تبیین عقلانی پدیده‌ها.
 (۴) مسئله ثابت یا متغیر، صرفاً در فلسفه اولی مطرح می‌شود.

۲۴۷- کدام عبارت درست است؟

- (۱) نخستین اندیشه‌های بشر پیرامون آغاز و انجام جهان، با باورهای دینی همراه بوده و از یونان به یادگار مانده است.
 (۲) سقراط، یکی از بزرگترین مردان تاریخ اندیشه، در یونان متولد شد و به این دلیل یونان مهد تفکر فلسفی شناخته شد.
 (۳) به علت جایگزینی زبان تعقل با زبان رمز و افسانه در یونان، یونان باستان را زادگاه فلسفه دانسته‌اند.
 (۴) سقراط در تأملات فلسفی خود، به مسائلی که مورد توجه جهان‌شناسان نخستین بود، پرداخت.

۲۴۸- اساس ترس از مرگ از نظر سقراط، کدام است؟

- (۱) توهم دانایی نسبت به مرگ
 (۲) اشتیاق به توقف در دنیا
 (۳) آگاهی از زیان مرگ
 (۴) سرپیچی از امر خدا

۲۴۹- اساس استدلال پروتاگوراس بر این که «حقیقت امری نسبی است»، کدام است؟

- (۱) هیچ دانش پایدار و مطلقی وجود ندارد.
 (۲) سخنان جهان‌شناسان با یکدیگر تعارض دارد.
 (۳) با بسط مقال، هر ادعایی را می‌توان ثابت کرد.
 (۴) شناخت حقیقی، شناختی است که با حواس به‌دست می‌آید.

۲۵۰- «هر موجود طبیعی، پس از زوال، در جای دیگری از طبیعت مورد استفاده قرار می‌گیرد.» این موضوع در فلسفه

ارسطو چگونه تبیین می‌شود؟

- (۱) غایت‌مندی کل جهان طبیعت
 (۲) میل طبیعی موجودات به سوی کمال
 (۳) تأثیر طبیعت در حرکت شیء از قوه به فعل
 (۴) وجود یک عامل آگاه در تک‌تک موجودات

۲۵۱- کدام مورد، ممتنع‌الوجود است؟

- (۱) اسب آتش‌خوار
 (۲) انسان هفت‌سر بالدار
 (۳) دایره منتظم‌الاضلاع
 (۴) فیلی به اندازه مورچه

۵۲ مساوی بودن فرض تحقق و عدم تحقق علت، برای وجود معلول، به کدام معنی است؟

- (۱) امکان فقری و نیازمند بودن معلول به علت خود
(۲) امکان ذاتی و نیازمند بودن معلول به علت تامه
(۳) تخلّف علت از معلول خویش و انکار علم و دانش
(۴) تخلّف معلول از علت خویش و همان صدفه و اتفاق

۲۵۳- به ترتیب، منظور از «پرواز پرنده»، «پرتگاه‌های کوه قاف» و «فرشته» در داستان‌های عرفانی ابن سینا کدام‌اند؟

- (۱) سیر درونی نفس - وسوسه‌های شیطان - عقل فعال
(۲) پیر طریق - سختی‌های سلوک نفس به سوی حقیقت - عقل فعال
(۳) سیر درونی نفس - سختی‌های سلوک نفس به سوی حقیقت - عقل فعال
(۴) سیر درونی نفس - سختی‌های سلوک نفس به سوی حقیقت - پیر طریق

۲۵۴- در کدام مورد، هر دو آموزه، مورد انکار معتزله بوده است؟

- (۱) عمل خارق‌العاده از غیر نبی - فرشتگان حافظ عمل
(۲) حساب و کتاب قیامت - کرام الکتبیین
(۳) کرام الکتبیین - معجزات
(۴) کرامات - معجزات

۲۵۵- کدام عبارت با نظرات سهروردی سازگار است؟

- (۱) مرتبه واسطه میان انوار قاهره و ارباب انواع، همان انوار اسفهبديه است.
(۲) منظور از مغرب کامل، عالم ماده است که در آن نور و ظلمت به هم آمیخته است.
(۳) با توجه به قاعده امکان اشرف، با مشاهده موجود اشرف می‌توانیم وجود غیر اشرف را ثابت کنیم.
(۴) در عالم مجردات، موجوداتی وجود دارند که با هم رابطه علی ندارند و امور طبیعی را تدبیر می‌کنند.

۲۵۶- کدام عبارت، با توجه به جریان‌های فکری جهان اسلام درست است؟

- (۱) متکلمان با فلاسفه سر سازش نداشتند، اما برکات این مخالفت‌ها برای فلسفه اسلامی بسیار بوده است.
(۲) شیخ اشراق بر همراهی عقل و ذوق عرفانی تأکید دارد؛ اما در نظام فکری او غلبه با روش عقلی و استدلالی است.
(۳) مظهر و نماینده کامل عرفان اسلامی که عرفان را به صورت یک علم مدون درآورد، ابن عربی، معروف به معلم ثانی است.
(۴) استدلال مشائیان در مورد خیر بودن نظام جهان بر این اساس است که خداوند کار قبیح نمی‌کند؛ پس آن چه شر به نظر می‌رسد، در واقع خیر است.

۲۵۷- کدام عبارت، بیانگر نظر ملاصدرا است؟

- (۱) وحی فقط همان را می‌گوید که عقل به آن رسیده باشد.
(۲) هر چه را که وحی گفته باشد، باید بتوان با عقل اثبات کرد.
(۳) عقل دو وظیفه دارد: اداره امور زندگی و اثبات حقایق دین.
(۴) عقل و وحی دو منبع مستقل از یکدیگر، اما مؤید همدیگرند.

۲۵۸- بحث «اصالت وجود و اصالت ماهیت»، بلافاصله بعد از کدام مرحله قابل طرح است؟

- (۱) تعیین ملاک نیازمندی معلول به علت
(۲) تجزیه واقعیت یگانه، در ذهن، به دو مفهوم جداگانه
(۳) پذیرش وجود واقعیت‌هایی مستقل از ذهن
(۴) تبیین منشأ اختلاف موجودات از نظر خواص و آثار

۲۵۹- کدام عبارت درست است؟

- (۱) در فلسفه جدید غرب، اعتقاد عمومی به اصل علیت مورد انکار قرار گرفته است.
(۲) اصل علیت یک قضیه بدیهی است و منشأ اولیه درک آن، آگاهی از خویش است.
(۳) تجربه علمی معلوم می‌کند که تعاقب دو حادثه، دلیل بر وجود رابطه علیت میان آن‌ها نیست.
(۴) انسان با علم حضوری قانون کلی علیت را درک می‌کند و آن را ملاک درستی هر تجربه قرار می‌دهد.

۲۶۰- جدا شدن شاخه‌های گوناگون علوم از یکدیگر، کدام نتیجه منفی را به دنبال دارد؟

- (۱) تضعیف اعتبار فلسفه نزد دانشمندان
(۲) از بین رفتن امکان گفت‌وگو میان دانشمندان
(۳) تضعیف دیدگاه کلی‌نگر نسبت به جهان
(۴) ایجاد فاصله میان ارزش‌های اخلاقی و تفکر علمی

- روان شناسی
- 3 2-D
- صفحه ۳۱
- ۲۶۱- شناسایی «مهم‌ترین علل شکست تحصیلی» به کدام مفهوم اشاره دارد؟
 (۱) تبیین (۲) توصیف (۳) کنترل (۴) پیش‌بینی
- ۲۶۲- از دیدگاه اریکسون ویژگی منفی دوره اعتماد در برابر بی‌اعتمادی، کدام است؟
 (۱) بی‌ثمری زندگی احساس می‌شود. (۲) سؤال «من کیستم» مطرح می‌شود.
 (۳) دنیا در مقابل کودک خطرناک جلوه می‌کند. (۴) نقش تعیین‌کننده همسالان رفتارها را شکل می‌دهد.
- ۲۶۳- اولین هدف در روان‌شناسی علمی، کدام است؟
 (۱) کنترل پدیده‌های رفتاری و روان‌شناختی (۲) توصیف پدیده‌های رفتاری و روان‌شناختی
 (۳) پیش‌بینی پدیده‌های رفتاری و روان‌شناختی (۴) اندازه‌گیری پدیده‌های رفتاری و روان‌شناختی
- ۲۶۴- عبارت «افراد باهوش در زندگی موفق‌ترند.» بیانگر چه سطحی از بررسی رفتار انسان است؟
 (۱) پیش‌بینی (۲) ارزشیابی (۳) توصیف (۴) تبیین
- ۲۶۵- کدام گزینه، رابطه علت و معلولی را نشان می‌دهد؟
 (۱) بین قد و وزن افراد رابطه وجود دارد.
 (۲) اندازه پا به اندازه قد فرد بستگی دارد.
 (۳) از روی نمره ریاضی می‌توان نمره فیزیک را پیش‌بینی کرد.
 (۴) روش تدریس فعال به یادگیری بیشتر دانش‌آموزان کمک می‌کند.
- ۲۶۶- کدام عبارت، بیانگر مفهوم «ادراک» است؟
 (۱) حل مسئله و تصمیم‌گیری (۲) تحریک گیرنده‌های حسی
 (۳) فرایند بازنمایی اطلاعات (۴) فرایند تفسیر محرک‌های انتخابی
- ۲۶۷- توانایی ذهنی انسان که اطلاعات خاصی را از میان سایر اطلاعات انتخاب نموده و به پردازش بیشتر آن می‌پردازد، چه نام دارد؟
 (۱) توجه (۲) تفکر (۳) نظام شناختی (۴) گلوگاه شناختی
- ۲۶۸- در روان‌شناسی، جنبه‌هایی از رفتار که می‌تواند اندازه‌گیری و یا ارزیابی شود، چه نام دارد؟
 (۱) نظریه (۲) گزینه (۳) یادگیری (۴) متغیر
- ۲۶۹- هنگامی که فرد احساسات خود را در لغزش‌های کلامی بروز می‌دهد، با کدام مفهوم روان‌شناختی سروکار دارد؟
 (۱) انکار (۲) گزینه (۳) تجارب اولیه (۴) ناخودآگاه
- ۲۷۰- چرا به‌طور هم‌زمان نمی‌توان هم به تدریس فلسفه گوش داد و هم قواعد عربی را فرا گرفت؟
 (۱) دشوار بودن تکلیف فلسفه و عربی (۲) وجود مشابهت بین مطالب آن‌ها
 (۳) وجود پردازش ارادی هر دو این تکالیف (۴) نداشتن تمرین و مهارت در این دروس

روان‌شناسی

D- 32

۳۲۴

۲۷۱- در کدام‌یک از دوره‌های رشد شناختی پیاژه، کودکان از «نمادها» استفاده می‌کنند و «خود مرکزین» هستند؟

(۱) عملیات انتزاعی (۲) حسی - حرکتی (۳) پیش‌عملیاتی (۴) عملیات عینی

۲۷۲- کدام ویژگی، بیشتر تابع رَسش یا پختگی است؟

(۱) زبان‌آموزی (۲) رشد اجتماعی

(۳) کنترل هیجانات (۴) کسب مهارت حل مسئله

۲۷۳- بیان کدام مورد، مهم‌ترین کاربرد «دیاگرام دایره‌های متداخل» است؟

(۱) توضیحات تکمیلی (۲) خلاصه اطلاعات

(۳) اطلاعات از بالا به پائین (۴) بیان شباهت‌ها و تفاوت‌های موضوعات

۲۷۴- کدام رفتار، در حوزه شناخت فرار می‌گیرد؟

(۱) ترس از سوار شدن به آسانسور (۲) برنامه‌ریزی برای مطالعه در طول سال

(۳) پرخاش در مقابل بی‌احترامی دیگران (۴) فرار کردن به هنگام روبه‌رو شدن با سگ

۲۷۵- پژوهشگری قصد دارد تأثیر آموزش «مسئولیت‌پذیری» را بر «رفتار جامعه‌پسند» در نوجوانان بررسی کند. مناسب‌ترین

روش تحقیق برای این موضوع، کدام است؟

(۱) هم‌بستگی (۲) آزمایشی (۳) مورد پژوهی (۴) مشاهده طبیعی

۲۷۶- براساس تقسیم‌بندی حافظه «خاطرات اولین روز دبستان هر فردی» مربوط به کدام نوع حافظه است؟

(۱) معنایی (۲) رویه‌ای (۳) رویدادی (۴) آماده‌سازی ادراکی

۲۷۷- کدام عبارت درست است؟

(۱) تعارض گرایش - اجتناب، به سختی قابل حل است.

(۲) حساسیت‌زدایی تدریجی جزء روش‌های درمان بینشی است.

(۳) اضطراب، خشم و ترس از جمله پاسخ‌های رفتاری در برابر فشار روانی است.

(۴) در مرحله هشدار، دستگاه ایمنی بدن به‌صورت کارآمد، با عفونت‌ها می‌جنگد.

۲۷۸- آقای جعفری در مصاحبه استخدامی، در شغل مورد علاقه خود پذیرفته نشده است، او با چه مسئله‌ای روبه‌رو شده است؟

(۱) تعارض (۲) ناکامی (۳) اضطراب (۴) فرسودگی

۲۷۹- به تغییرات بدنی و جنسی که جزئی از علائم رشد و قابل رؤیت هستند، چه می‌گویند؟

(۱) بلوغ جنسی (۲) رسش جنسی

(۳) ویژگی اولیه جنسی (۴) ویژگی ثانویه جنسی

۲۸۰- یادآوری کدام محرک‌ها، بهتر و آسان‌تر است؟

(۱) متباین و عادی (۲) متباین و یکنواخت

(۳) غیرمنتظره و متباین (۴) غیرمنتظره و عادی